

# Övningskompendium

inför antagningsprov till YH-utbildningar på  
Fastighetsakademin



Övningskompendium inför antagningsprov till YH-utbildningar på Fastighetsakademin  
Fastighetsakademin, 2025  
Andra upplagen, rev. 1  
Tryckt på Fastighetsakademin

Fastighetsakademin  
J A Wettergrens gata 14, 421 30 Västra Frölunda  
[www.fastighetsakademin.se](http://www.fastighetsakademin.se)  
Tel: 031-734 11 60  
[info@fastighetsakademin.se](mailto:info@fastighetsakademin.se)

## Förord

Varför behöver man repetera matematik inför skolstarten? Nio av tio sökande säger att de har glömt den matematik de lärt i skolan och tycker att det är svårt. Men matematik är ett ämne som är grundstenen för många andra ämnen, därför är det viktigt att man repeterar och återupplivar sina kunskaper inför de fortsatta studierna.

Kompendiet innehåller många exempel och det finns förutom svar med kommentarer även ledningar och fullständiga lösningar till ett urval av uppgifterna. Kompendiet täcker in allt väsentligt från gymnasiets kurser i matematik 1/A- till 2/B-nivå. Tonvikten ligger på de grundläggande färdigheterna samt är anpassat för de matematiska förkunskaper som krävs för vidare studier i andra ämnen vid Fastighetsakademin, t.ex. byggnadsteknik och -fysik, installationsteknik, kyl- och värmepumpsteknik, elteknik, investeringskalkylering och företagsekonomi.

Att repetera sina svenskkunskaper inför skolstarten upplevs vanligtvis svårare än att plugga till matematikdelen. Matematikens frågor besvaras och svaret är antingen rätt eller fel, i svenskan däremot är det inte lika självklart. När man skriver texter kan flera olika resultat vara rätt. Det handlar om god kännedom om svenska språket, både vad gäller grammatik och ett brett ordförråd.

I kompendiets andra del hittar du information, tips och ett par övningsuppgifter som kan hjälpa dig att göra ett bra resultat vad gäller svenskdelen på antagningsprovet. Men det är även tips du kommer att ha nytta av i arbetslivet såväl som privat. Dock gäller att du, genom självstudier, applicerar tipsen i vardagen för att kunna utnyttja tipsen till fullo.

Lycka till med dina studier!

Februari 2025

Fastighetsakademin

## Innehåll

<b>1 Studietips</b> .....	<b>6</b>
Allmänna studietips .....	6
Matematiska studietips .....	7

## Del 1 - Matematik

<b>2a Formler och ekvationer</b> .....	<b>9</b>
Exempel på problemlösning.....	10
Förenkling av uttryck.....	11
<b>2b Massa, densitet och tryck</b> .....	<b>14</b>
Påkänning.....	14
Beräkningar.....	15
<b>3 Procent</b> .....	<b>16</b>
En procent och hundra procent.....	16
Beräkningar.....	18
Vanliga problemtyper: .....	20
Procent, promille och ppm.....	21
Beräkningar.....	21
Förändringsfaktorn.....	22
Procent och procentenheter.....	25
Beräkningar.....	26
Beräkning av procentsatsen och nya värdet.....	27
Vilken procentsats? .....	29
<b>4 Geometri</b> .....	<b>32</b>
Mäta med linjal.....	32
Omkrets.....	32
Längdenheter.....	33
Area.....	33
Cirklar .....	34
Cylindrar, koner.....	35
Beräkningar.....	36
Volym .....	36
Volymenheter .....	37
Beräkningar.....	38
Trianglar och vinklar.....	39
<b>5 Trigonometri</b> .....	<b>40</b>
Beräkningar.....	43
<b>6 Lutning</b> .....	<b>48</b>
Beräkningar.....	49
<b>7 Kartor</b> .....	<b>50</b>
Vad är en karta? .....	51
Ritningar .....	51
Skala .....	52
Övningsuppgift 1 .....	54
<b>8 Tabeller och diagram</b> .....	<b>56</b>
Tabeller .....	56

Tabellers utseende.....	57
Diagram .....	58

## **Del 2 - Svenska**

<b>9 Ordförståelse och meningskomplettering .....</b>	<b>61</b>
De två språkbruken .....	61
Vikten av ett brett ordförråd i skolan .....	64
Meningskomplettering .....	66
<b>10 Läsförståelse.....</b>	<b>69</b>
Läsförståelsestrategier.....	69
Träna din läsförståelse .....	70
Lathund: Läsförståelsestrategi .....	71
Ursäktens betydelse .....	74

## **Facit**

<b>Facit .....</b>	<b>75</b>
--------------------	-----------

# 1 Studietips

## Allmänna studietips

Att studera är ganska krävande och tar tid. Du har nu valt att studera och vi utgår från att du naturligtvis vill lyckas så bra som möjligt! Det är en konst att kunna prioritera rätt och använda sin tid för studier så effektivt som möjligt. För att underlätta detta arbete för dig kommer här ett antal tips som kan vara värdefulla, speciellt om du inte studerat på längre, för att du ska nå ditt mål.

1. Börja med att fundera över din personliga situation och hur dina studier ska genomföras.
  - Arbetar du hel- eller deltid?
  - Har du barn och familj?
  - Har du någon bra plats för dina studier?

Din tid är viktig! För att dina studier ska flyta på så bra som möjligt är det viktigt att vara "ekonomisk" med tiden och utnyttja den på bästa sätt. Bästa utnyttjande av tiden förutsätter en bra plats för studierna.

2. När du väljer plats för ditt läsande är det bra om
  - du kan stänga dörren om dig så att du kan vara ifred och koncentrera dig,
  - du har plats för och ordning på dina böcker, pärmar m.m., så att du inte behöver ödsla tid på att leta efter dina saker,
  - du har bra belysning så att du inte blir så trött i ögonen,
  - du möblerar så att det känns trivsamt.

Är det någon i klassen som bor i närheten av dig? Arbeta gärna tillsammans om ni kan! Det finns möjlighet att stanna kvar varje dag efter lektionerna och sitta i våra lokaler. Att ha någon i närheten att bolla sina idéer med, få inspiration av, knäcka problem tillsammans med är ovärderlig hjälp.

3. Utveckla goda arbetsvanor.
  - Se gärna dina studiepass som ett heltidsjobb. Sätt upp delmål som ska nås inom uppsatt tid, avsätt regelbunden tid för varje pass, alla pass är viktiga, räcker inte studietiden får man utöka den. På det här sättet kan alla bli bättre.
  - Skaffa dig en översikt över vad kursen innehåller så att du kan sätta upp dina delmål. Har boken sammanfattningar i slutet av varje kapitel blir det enkelt.
  - Använd skolschema och kursbeskrivning för att planera dina studier så att du är förberedd inför varje lektion och kan ställa frågor kring det du inte förstått.
  - Gör din personliga tidsplanering utifrån dina förkunskaper.
4. Fler tips!
  - Läs igenom och begrunda eventuella lektionsanteckningar så fort som möjligt, och komplettera dem om det är nödvändigt medan du har allt färskt i ditt minne.
  - Räkna och fundera, räkna och begrunda, räkna och reflektera! Att lära sig matematik är som att lära sig ett nytt språk, matematikspråket.

- Läs boken med pennan i hand; stryk under, kommentera. Är något avsnitt svårt, märk ut var det är (t.ex. skriv sidnumren i bokens pärm) och be om hjälp med det.
- Traggla inte i timtal om du kör fast på någon uppgift. Läggbort den ett tag och räkna en annan uppgift i stället. Återkom till den besvärliga uppgiften senare.
- Gör små pauser eftersom för långa pass gör dig trött. Ät och drick gärna lite mellan varven; hjärnan arbetar ju när du tänker. En promenad, en tur i motionsspåret eller annan fysisk aktivitet är också bra avbrott. Kroppen behöver röra på sig och det du läst och räknat faller på plats under tiden.

## Matematiska studietips

- Läs igenom avsnittet om problemlösning nedan och tillämpa de metoder som beskrivs där.
- Tag för vana att rita och skriva upp det du känner (vet) i frågeställningen på ett papper så klarnar ofta bilden av vad du ska räkna ut. Stryk under dina delresultat och ditt slutresultat. Redovisa till sist svaret separat. Studera noga alla exempel på lösningar.
- Bli "vän" med din miniräknare. Olika märken har ibland olika beteckningar för samma funktion.

## Strategitips inför problemlösning

Hur gör man då när man löser ett problem?



1. Du ska förstå problemet.  
Vad söker man? Vad är givet? Verkar problemet rimligt? Rita en figur om det går.  
Inför lämpliga beteckningar.
2. Gör upp en plan.  
Har du sett detta tidigare? Har du sett eller löst något liknande förut? Kan du dela in i delproblem? Kan du lösa eventuella delproblem? Vilka fakta saknas?  
Du måste tänka efter hur du ska lösa problemet och ställa upp de beräkningar du ska göra.
3. Genomför planen.  
Du måste genomföra beräkningarna för att få ett resultat. Kontrollera varje steg.  
Fungerar det inte gör du upp en ny plan.
4. Se tillbaka.  
Är resultatet rimligt? Kan man lösa problemet på ett annat sätt? Är resultatet eller metoden användbar i andra sammanhang?

Steg 3 är viktigt att kunna genomföra. Klarar man inte det får man inget resultat till problemet. Beräkningarna kan utföras med

- huvudräkning
- handräkning
- räknare.

Före räknarens tid måste de flesta beräkningar utföras med handräkning. Nackdelar med detta är att

- de tar lång tid
- man kan lätt räkna fel
- verklighetsnära uppgifter kan sällan lösas då de ofta leder till för svåra beräkningar.

Vi tar därför hjälp av räknaren för svårare beräkningar. Enkla beräkningar kan du göra i huvudet.

**Exempel 1:**  $7,01 \times 8,3$  utför du med räknare  
 $7 \times 8$  räknar du i huvudet

**Exempel 2:**  $16,1 / 4,3$  utför du med räknare  
 $16 / 4$  räknar du i huvudet.



### Antal decimaler

När vi använder räknare är det naturligt att skriva upp talen med decimaler. Som följande exempel visar måste vi dock se upp med antalet decimaler.

**Exempel 3:** Jenny köpte 19 äpplen för 37 kr.  
Vad kostade ett äpple?  
Räknaren ger  $\frac{19}{37}$  kr = 1,9473684... kr

### Avrundning

Vi kan inte svara med 7 decimaler, då mynt för ören är avskaffade. Vid kontantbetalning måste därför talet avrundas till heltal.

$$\frac{37}{19} \approx 2 \text{ kr}$$

Tecknet  $\approx$  betyder  
"ungefär lika"

### Överslag

Ofta är det bra att göra ett överslag innan man använder räknare.

$$\frac{37}{19} \approx \frac{40}{20} = 2$$



# Del 1 - Matematik

## 2a Formler och ekvationer

Fördelen med att använda formler är att de på ett enkelt sätt beskriver hur man alltid kan göra för att lösa ett problem av en viss typ. För att beräkna volymen av ett rätblock använder man formeln:

$$V = b \times l \times h$$


där

V = volymen

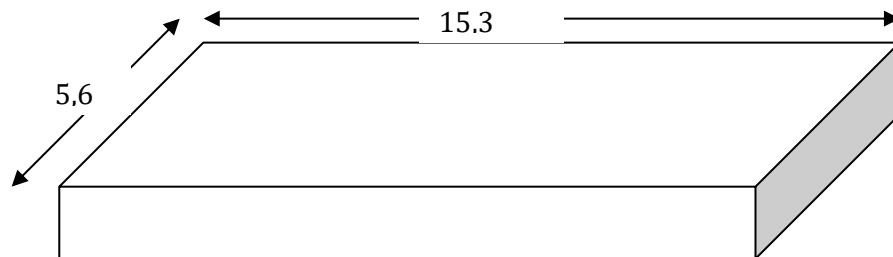
b = bredd

l = längd

h = höjd



Exempel 1: Ett bärlag i ett hus har mått enligt figuren. Det ska vara 0,1 m högt. Beräkna hur många  $m^3$  betong det går åt till plattan.



Ekvationer används dels för att beskriva samband, dels för att bestämma något vi inte känner. Formler är en typ av ekvation. För att lösa ekvationer krävs att man är noggrann och inte räknar för mycket i huvudet. Det är bättre att skriva ett led "i onödan" än att räkna fel.

## Exempel på problemlösning

### Problemet:

En stor kokosboll kostar 2 kr mer än en Mums-mums. Vad kostar en Mums-mums då 5 stora kokosbollar kostar lika mycket som 7 stycken Mums-mums?

1 - Förstå problemet

2 - Gör upp en plan

3 - Genomför planen

4 - Se tillbaka

---

### Förstå problemet.

- Vad söks?
- Vad är givet?
- Verkar problemet rimligt?
- Rita en figur om det går.
- Inför lämpliga beteckningar.

Du ska ta reda på vad en Mums-mums kostar. Det är givet att en stor kokosboll kostar 2 kr mer än en Mums-mums och att 7 stycken Mums-mums kostar lika mycket som 5 stora kokosbollar. Problemet verkar rimligt.

**Pris för Mums-mums: x kr**

**Pris för stor kokosboll: y kr**

---

### Gör upp en plan.

- Har du sett detta tidigare?
- Har du sett eller löst något liknande förut?
- Kan du dela in i delproblem?
- Kan du lösa eventuella delproblem?
- Vilka fakta saknas?

Skriv ut vad som söks:

**Sökt: x**

Skriv ner de matematiska sambanden mellan x och y som du känner:

$$y = x + 2 \quad (1)$$

$$7x = 5y \quad (2)$$

Eftersom vi har två obekanta och två ekvationer bör detta gå att lösa.

**Sätt in uttrycket för y som finns i ekvation (1) i ekvation (2)**

---

### Genomför planen.

- Kontrollera varje steg.
- Stryk under resultat.
- Fungerar det ej gör du upp en ny plan.

$$7x = 5y$$

$$7x = 5(x + 2)$$

$$7x = 5x + 10$$

$$2x = 10$$

$$\underline{x = 5}$$

Planen verkade fungera, vi har räknat ut att en Mums-mums kostar 5 kr.

---

### Se tillbaka.

#### Glöm inte detta steg!

- Är resultatet rimligt?
- Kan man lösa problemet på ett annat sätt?
- Är resultatet eller metoden användbar i andra sammanhang?

Det verkar rimligt att en Mums-mums kostar 5 kr. För att vara riktigt säker fortsätter man sina beräkningar.

**Sätt in resultatet  $x = 5$  i ekvation (1)**

**Då får man att  $y = 7$**

**Sätt in  $x = 5$  i VL (vänster led) i ekvation (2)**

**Då får man  $7x = 35$**

**Sätt in  $y = 7$  i HL (höger led) i ekvation (1)**

**Då får man  $5y = 35$**

**Eftersom VL = HL har vi räknat rätt.**

**Svar: En Mums-mums kostar 5 kr.**

Metoden är alltid användbar då man löser linjära ekvationssystem. Denna metod kallas substitutionsmetoden. Det finns fler sätt att lösa detta problem.

## Förenklning av uttryck

### Formler

En formel är en "kompakt skriven räkneregler" där man använder bokstavsbeteckningar i stället för ord för att beskriva vilka samband som finns mellan olika storheter (med storhet menas "egenskaper" som t.ex. tid, längd, volym, temperatur, strömstyrka).

När man gör beräkningar av olika slag lönar det sig ofta att ställa upp en formel. Det kan gälla pengar, volymer, areor, volymer m.m. Du känner säkert till formler som  $U = R \times I$  (Ohms lag),  $p \times V = n \times R \times T$  (Allmänna gaslagen),  $s = v \times t$  (hastighetsberäkningar),  $W = m \times g \times h$  (lägesenergi).

Dessa exempel är hämtade från fysiken men det är inte bara naturvetare och tekniker som använder formler. Även inom ekonomi, samhällsvetenskap, medicin och andra områden använder man sig av formler.

Som du ser påminner formler mycket om ekvationer. Det är också så att de regler som gäller då man arbetar med ekvationer gäller även vid arbete med formler.

### Ekvationer

Ekvation betyder likhet. En ekvation består av två led åtskilda av ett likhetstecken. Detta likhetstecken är en "helig ko" som alltid ska gälla.

En ekvation har minst ett tal som är okänt. Vanligtvis kallar man ett okänt tal för  $x$  men även andra bokstäver kan användas för det okända talet. Finns flera okända tal får varje okänt tal sin egen beteckning.

Två huvudspår finns när det gäller att lösa ekvationer, antingen gissar man lösningen eller så räknar man ut den. Sedan kontrollerar man om det är rätt lösning, är det inte det måste man börja om på nytt. Väljer du att räkna ut ekvationens lösning gäller följande regel:

Du måste alltid göra samma sak med hela höger led och hela vänster led!

Ordet **ekvation** betyder likhet. En ekvation är en likhet mellan två matematiska uttryck. De två uttrycken skrivs alltså med ett likhetstecken emellan. Uttrycket som står till vänster om likhetstecknet kallas vänstra ledet (VL) och uttrycket som står till höger om likhetstecknet kallas högra ledet (HL).

**Exempel 1:**  $2x - 3 = x + 5$

$\underbrace{\hspace{2em}}_{\text{VL}} \quad \uparrow \quad \underbrace{\hspace{2em}}_{\text{HL}}$

$\underbrace{\hspace{4em}}_{\text{likhetstecken}}$

Ekvationen ovan betyder att två gånger ett obekant tal minskat med tre är lika mycket som samma obekanta tal (en gång) ökat med fem. I detta fall (och i de flesta fall) används bokstaven  $x$  för att beteckna det obekanta talet. Att lösa ekvationen innebär att finna ett

värde (eller flera värden) som det obekanta talet kan ha, så att vänstra ledet verkligen blir lika med det högra ledet. Ett sådant värde som löser ekvationen kallas en rot till ekvationen. (Lösningen till ekvationen i exemplet ovan är roten  $x = 8$ .)

Ibland kan man direkt se lösningen, men om det inte går, så är metoden för att finna ekvationens lösning, att skriva om ekvationen efter hand tills  $x$  står ensamt i ena ledet (VL eller HL) och det andra ledet endast består av ett tal. (Om man använt någon annan bokstav än  $x$  för att beteckna det obekanta talet, så är det förstås den bokstaven som ska stå ensam i ena ledet.) Metoden innebär att efter det att de båda leden eventuellt förenklats så långt möjligt vart för sig, så behandlas båda lika tills målet är nått. Hela tiden måste likheten mellan leden bevaras.

Att båda leden behandlas lika betyder exempelvis att

- båda leden adderas med lika stora tal eller uttryck,
- båda leden subtraheras med lika stora tal eller uttryck,
- båda leden multipliceras med lika stora tal eller uttryck,
- båda leden divideras med lika stora tal eller uttryck.

### Exempel 2: Addition

$$\begin{aligned}x - 5 &= 7 \\x - 5 + 5 &= 7 + 5 && \leftarrow + 5 \\x &= 12\end{aligned}$$

### Exempel 3: Subtraktion

$$\begin{aligned}x + 12 &= 32 \\x + 12 - 12 &= 32 - 12 && \leftarrow - 12 \\x &= 20\end{aligned}$$

### Exempel 4: Multiplikation

$$\begin{aligned}\frac{x}{5} &= 7 \\ \frac{x \times 5}{5} &= 7 \times 5 && \leftarrow \times 5 \\ \frac{x \times 5}{5} &= 7 \times 5 \\ x &= 35\end{aligned}$$

### Exempel 5: Division

$$\begin{aligned}5x &= 12 \\ 5 \times x &= 12 \\ \frac{5 \times x}{5} &= \frac{12}{5} && \leftarrow / 5 \\ \frac{5 \times x}{5} &= 2\frac{2}{5} \\ x &= 2,4\end{aligned}$$

**Observera** att för att lösningar ska bli så lätta att följa som möjligt, så skriver man de efter hand omskrivna ekvationerna under varandra och med likhetstecknen rakt under varandra.

Lös följande ekvationer:

1. a)  $x + 4 = 10$

b)  $x - 5 = 15$

c)  $x + 20 = 30$

2. a)  $x - 8 = 19$

b)  $x + 4 = 15$

c)  $x - 9 = 20$

3. a)  $x - 3 = 18$

b)  $x - 25 = 40$

c)  $60 = x + 20$

4. a)  $3x = 12$

b)  $20 = 4x$

c)  $6x = 15$

5. a)  $\frac{x}{2} = 9$

b)  $\frac{x}{4} = 20$

c)  $5 = \frac{x}{3}$

6. a)  $x - 27 = 50$

b)  $\frac{x}{5} = 20$

c)  $5x = 20$

7. a)  $8x = 12$

b)  $125 + x = 245$

c)  $x - 19 = 100$

8. a)  $\frac{x}{3} = 33$

b)  $2x = 27$

c)  $50 = 27 + x$

9. a)  $25x = 100$

b)  $x + 25 = 100$

c)  $x + 25 = 25$

10. a)  $40 = \frac{x}{4}$

b)  $1,5 = \frac{x}{5}$

c)  $8x = 20$

11. a)  $2x + 3 = 17$

b)  $4x - 6 = 14$

c)  $5x + 20 = 40$

12. a)  $3x - 12 = 18$

b)  $\frac{x}{2} + 5 = 8$

c)  $\frac{x}{5} - 10 = 30$

13. a)  $4x - 14 = 16$

b)  $2x + 7 = 9$

c)  $25 = 5x + 13$

14. a)  $3x - 7 = x + 23$

b)  $7x + 6x = 72 + x$

15. a)  $3x + 5 = 20 - 2x$

b)  $9x - 4x = 60$

16. a)  $4x = 2x + 80$

b)  $12 - 10 + 5x = 14 + 2x$

17. Bestäm värdet av uttrycket  $3x - 4y$  då

a)  $x = 5$  och  $y = 2$

b)  $x = 6$  och  $y = 1$

18. a)  $x + 9 = 5$

b)  $4x - 2 = 0$

19. a)  $2x + 8 = 6$

b)  $15x - 10 = 20x$

20. a)  $4x + 7 = 2x$

b)  $13x - 8 = 12x - 8$

21. a)  $1 = x + x - 4$

b)  $80x - 10 = 10 - 20x$

22. a)  $3x + 5x + 8 = 32$

b)  $6x + 7 - 4x + 5 = 16$

23. a)  $33 = 4x - 8 + x + 11$

b)  $2x + 4x - 2 - 4 = 6$

24. a)  $10x + 20 = 6x - 60$

b)  $x + 9 + 4x = 12 + 8x - 15$

25. a)  $x - 11 = 7 - 3x$

b)  $5,5 = 10 - 3x$

26. a)  $9 - 2x + 6 = 5x + 1$

b)  $1 - 3x + 3 = 9x - 8 + 12x$

27. a)  $4x + 4 + 2x = 8 - 2x - 4 - 7x$

b)  $12x - 3 - 20x + 4 = 10x - 17$

28. Bestäm värdet av uttrycket  $2x - 5y$  då

a)  $x = 5$  och  $y = 7$

b)  $x = 3$  och  $y = -1$

29. Vilka av följande uttryck är lika med  $1 - x$ ?

A:  $x + 1 - 2x$

B:  $-x + 1$

C:  $2 - 1 + x$

D:  $3 - 2x - 2 +$

## 2b Massa, densitet och tryck

Massan är en kropps materialinnehåll. Den mäts vanligtvis i gram (g), kilogram (kg) eller ton. Enklaste sättet att ta reda på en kropps massa är att väga den.

Densiteten anger massan av en viss volym, vanlig enhet är  $\text{kg/m}^3$ .

Trä (furu, gran)	$500 \text{ kg/m}^3$
Betong	$2\,400 \text{ kg/m}^3$
Tegel	$1\,500 \text{ kg/m}^3$ (även $1\,300$ och $1\,700$ )
Stål	$7\,700 \text{ kg/m}^3$
Gips	$710 \text{ kg/m}^3$
Lättbetong	$600 \text{ kg/m}^3$

Beroende på om vi befinner oss på jorden eller månen kommer vi påverkas av olika storlekar på dragningskraften. En stor planet drar mer i oss än vad en liten himlakropp gör. Ju tyngre massa desto mer trycker föremålet på underlaget. Enheten för kraft är N (newton) eller kN och anger hur mycket kraft ett föremål trycker på underlaget.

På jorden påverkas en massa på ett kilo av en kraft som är ungefär 10 N (9,81 N).

För att beräkna massan används följande formel:

$$m = V \times \rho$$

där

m = massa

V = volym

$\rho$  = densiteten

**Exempel 1:** Beräkna massan av en betongbalkfigur med längden 5 m, höjden 600 mm och bredden 250 mm.

Beräkna först balkens volym.

$$V = b \times l \times h = 0,25 \times 5 \times 0,6 = 0,75 \text{ m}^3$$

Beräkna sedan massan.

$$m = V \times \rho = 0,75 \times 2\,400 = 1\,800 \text{ kg}$$

### Påkänning

Kraften är i praktiken utspridd över en yta och detta beräknas genom att fördela kraften över anläggningsytan.

Påkänning = tryck = kraft/area.

Enheten blir  $\text{N/m}^2$  vilket även kallas Pascal (Pa). Pascal är en liten enhet där 1 Pa motsvaras av ungefär trycket av ett vanligt papper på ett bord.

Exempel 2: Med vilken kraft trycker en tvåplansvilla på bottenplattan? Villans massa är 60 ton och bottenplattans area är 110 m<sup>2</sup>.

$$\text{Kraften} = 9,81 \times 60\,000 = 588\,600 \text{ N}$$

$$\text{Påkänningen} = \text{trycket} = 588\,600 \text{ N} / 110 \text{ m}^2 = 5\,351 \text{ N} / \text{m}^2 = 5\,351 \text{ Pa}$$

### Beräkningar

1. Beräkna massan av en betongbalkfigur med längden 30 m, höjden 50 cm och bredden 250 mm.
2. Beräkna massan av en tegelvägg med längden 10 m, höjden 2,50 m och 22 cm.
3. Vad väger en gammal stor gran på ett ungefär? Du måste göra en hel del antaganden för att kunna lösa denna uppgift, t.ex. hur hög granen är och vilken diameter den har.
4. Med vilken kraft trycker en container på marken om den väger 980 kg och bottenarean är 4 m<sup>2</sup>?
5.
  - a) Hur mycket tyngd måste parkeringsplatsen totalt tåla om det ska stå 50 bilar á 1 100 kg inom en area av 350 m<sup>2</sup>?
  - b) Vad blir trycket per m<sup>2</sup>?

## 3 Procent

Ordet procent kommer från latinet och betyder hundradelar. En procentare var förr i världen en person som lånade ut pengar mot oskäligen ränta. Procenträkning är mycket viktigt och förekommer överallt i samhället. Som exempel kan man ge valresultat, löneökningar, rabatter, moms m.m.

Vi kan börja med en liten sann historia: Det var en gång en mattelärare som träffade en gammal elev. Läraren erinrade sig att eleven nog var den sämsta han haft genom tiderna. Eleven såg välmående ut, ja nästan rik ut i sin fina Mercedes. "Vad sysslar du med?" frågade läraren. "Jag gör affärer", blev svaret. "Hur går det?" frågade läraren, "du var inte världsmästare i matte precis." "Jag köper kataloger för 1 kr styck och säljer dem för 3 kr styck och på de 2 procenten klarar jag mig bra", blev svaret.

När du har gått igenom procentavsnittet kan du säkert kommentera den här historien kritiskt.

### En procent och hundra procent

#### En jämförelse

I en skolmatch i basket mellan Brobyskolan och Dalbyskolan gjorde Brobyskolan 34 poäng på straffkast medan Dalbyskolan gjorde 27 poäng på straffkast.

Vilken skola lyckades bäst med straffkasterna? Jämför vi antalet poäng blir svaret Brobyskolan. Men är detta en bra jämförelse? Nej, man bör jämföra lagens poäng i förhållande till hur många straffkast lagen hade.

Brobyskolan hade 40 straffkast och Dalbyskolan hade 30 straffkast.

Vi kan då jämföra:  $\frac{34}{40}$  med  $\frac{27}{30}$

Här är svårt att direkt se vilken andel som är störst. Vi uttrycker därför andelarna i decimalform.

Brobyskolan:  $\frac{34}{40} = 0,85 = 85$  hundradelar

Dalbyskolan:  $\frac{27}{30} = 0,90 = 90$  hundradelar



Dalbyskolan lyckas bäst med straffkasterna. Som du säkert känner till kallar man en hundradel för en procent. För procent använder vi tecknet %.

Brobyskolan gjorde alltså poäng i 85 % av straffkasterna och Dalbyskolan i 90 % av straffkasterna.



### Varför procent

Procent anger hundradelar och är bra att använda när man vill jämföra andelar.




**Exempel 1:** 75 % av figuren är färgad.  
Hur många procent är ofärgad?



**Svar:** Det hela är 100 %. Hela figuren = 100 %.  
Den ofärgade delen = 100 % - 75 % = 25 %.

**Exempel 2:** Figuren är delad i fem lika stora delar.  
Hur stor andel av figuren är färgad?



Svara i

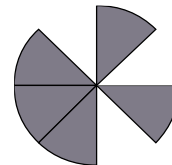
- a) bråkform                      b) decimalform                      c) procentform

**Svar:** 2 delar av 5 är färgade

- a)  $\frac{2}{5}$                       b)  $\frac{2}{5} = 0,4$                       c)  $0,4 = 0,40 = 40\%$

**Exempel 3:** Hur stor andel av tårtan är inte uppäten?

Svara i bråkform, decimalform och



procentform.


**Svar:**  $\frac{5}{8} = 0,625 = 62,5\%$

**Exempel 4:** Skriv i procentform med en decimal.  
Använd miniräknare.

- a)  $\frac{1}{32}$                       b)  $\frac{2}{3}$

Svar:

- a)  $\frac{1}{32} = 0,03125 = 3,125\% \approx 3,1\%$   
b)  $\frac{2}{3} = 0,6666... = 66,666... \% \approx 66,7\%$



Vid en omröstning på 2 skolor, A och B, i en stad noterades följande resultat. På skola A röstade 588 av 1 400 elever för att bibehålla kärnkraft, medan motsvarande siffror på skola B var 774 av 1 800. På vilken skola var andelen kärnkraftsanshängare störst? Vi undersöker bråken  $588/1\,400$  och  $774/1\,800$

$$A: 588/1\,400 = 0,42 = 42/100$$

$$B: 774/1\,800 = 0,43 = 43/100$$

På skola B röstade 43 av 100 för kärnkraft och på skola A 42 av 100. Andelen kärnkraftsanshängare är större på skola B. Procent betyder hundradelar och tecknas %. Resultatet blir att skola B har 43 % och skola A har 42 % kärnkraftsanshängare.

$$1\% = 0,01, 2\% = 0,02, 17\% = 0,17 \text{ o.s.v.}$$

En del enkla procenttal kan man se som bråk.

$$25\% = 0,25 = 1/4, 50\% = 0,50 = 1/2, 75\% = 0,75 = 3/4, 100\% = 1,00 = 1, \\ 12,5\% = 0,125 = 1/8$$

$$33\frac{1}{3}\% = \frac{1}{3} \quad 66\frac{2}{3}\% = \frac{2}{3}$$

1 % är alltså en hundradel. Det innebär att procentsatsen kan skrivas som procentform eller decimalform.

Procenttal	Decimaltal	Bråktal
1 %	0,01	1/100
35 %	0,35	35/100
112 %	1,12	112/100

## Beräkningar

1. 4 % av en cirkel är färgad, hur många procent är ofärgad?

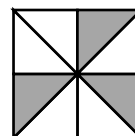
2. Hur stor andel av figuren är färgad? Svara i

- Bråkform
- Decimalform
- Procentform



3. Hur stor andel av figuren är färgad? Svara i

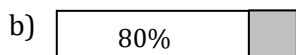
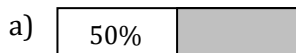
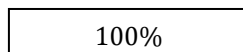
- Bråkform
- Decimalform
- Procentform



4. Skriv i procentform med en decimal.

a)  $\frac{5}{8}$       b)  $\frac{9}{32}$       c)  $\frac{75}{128}$       d)  $\frac{15}{18}$

5. Hela figuren är 100%  
Hur stor andel är skuggad?



6. 60 % av eleverna i en klass är flickor. Hur många procent är pojkar?

7. Skriv i procentform.


a) 0,42                      b) 0,03                      c) 0,30                      d) 0,305

8. Skriv i decimalform.

a) 65 %                      b) 7 %                      c) 70 %                      d) 70,3 %

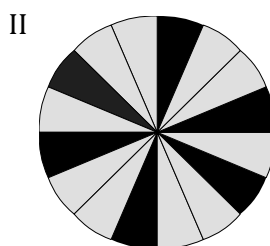
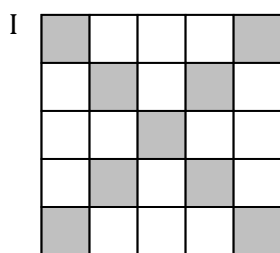
9. Hur stor del av figuren är färgad? Svara i

- a) bråkform  
b) decimalform  
c) procentform



10. Hur stor del av figurerna är färgade? Svara i

- a) bråkform                      b) decimalform                      c) procentform



11. Rita en rektangel. Skugga sedan 40 % av den.

12. Skriv i procentform med en decimal.

a)  $\frac{7}{8}$                       b)  $\frac{5}{12}$                       c)  $\frac{3}{22}$                       d)  $\frac{17}{36}$

13. Var är arbetslösheten bland byggnadsarbetare störst, i Persboda eller Västerstad?

Antal byggnadsarbetare	Persboda	Västerstad
Totalt	75	1 500
Arbetslösa	9	165

Undersök och diskutera



### Vanliga problemtyper:

De problem man ofta stöter på är av tre grundtyper. Det gäller alltså att fundera ut vilken typ av problem är det jag ska lösa?

**Exempel 1:** Man frågar efter hur många procent "en del" är av "det hela".  
Hur många procent är 50 kr av 370 kr?  
Uträkning:  $50/370 = 0,135 = 13,5 \%$   
**Svar:** 50 kr är **13,5 %** av 370 kr

**Exempel 2:** Man frågar efter hur mycket delen är när man vet procentsatsen och "det hela".  
Hur mycket är 15 % av 630 kr?  
Uträkning:  $0,15 \times 630 = 94,5$   
**Svar:** 15 % av 630 kr är **94,5 kr**

**Exempel 3:** Man frågar efter vad det hela är när man känner till procentsatsen och hur mycket procentsatsen motsvarar.  
70 % av en summa är 420 kr. Hur stor är summan?  
Uträkning:  $420/0,7 = 600$   
**Svar:** Summan är **600 kr**

### Alternativ av exempel 3 kan se ut så här:

En vara säljs med 20 % rabatt för 1 200 kr. Vad var priset före rabatt?

Ett mycket vanligt men *felaktigt* sätt att beräkna det är följande:

20 % av 1 200 är  $0,20 \times 1\,200 = 240$  kr. Priset innan var då

$1\,200 + 240 = 1\,440$  kr. En kontroll visar då att 20 % av 1 440 kr är

$0,20 \times 1\,440 = 288$  kr.

$1\,440$  kr - 288 kr = 1 152 kr d.v.s. det blir INTE 1 200 kr. Så här kan man göra:

20 % rabatt innebär att man betalar 80 %,

80 % motsvarar 1 200 kr,

1 % motsvarar  $1\,200/80 = 15$  kr,

100 % motsvarar  $100 \times 15 = 1\,500$  kr.

Fullt pris är alltså 1 500 kr.

Ett annat sätt är att lösa problemet med en ekvation. Man antar att fullt pris är x kr. Eftersom 80 % av priset är 1 200 kr blir ekvationen:

$$0,80 \times x = 1\,200$$

$$x = 1\,200/0,80$$

$$x = 1\,500$$

Fullt pris är 1 500 kr.



## Procent, promille och ppm

Promille betyder tusendelar och betecknas ‰. ppm betyder miljondelar och betecknas ppm (ppm = part per million). Promille används ofta när man talar om koncentrationen ren alkohol i blodet medan ppm används när man talar om t.ex. föroreningar.

Förkortningar av typen ppm, ppb och pphm ska undvikas enligt en svensk standard (SS 01 61 18). (ppm, ppb och pphm betyder part per million, part per billion (miljard) resp. part per hundred million.) Att vi fortfarande använder ppm beror på dess vida spridning i arbetslivet.

Problemtyper:

Hur mycket är 7 % av 800?

Hur mycket är 7 ‰ av 800?

Hur mycket är 21 ppm av 18 kg?

I 1 000 m<sup>3</sup> vatten finns 22 liter av en förorening. Hur många ppm blir det?

Procent kan översättas med hundradel(ar). På samma sätt kan promille översättas med tusendel(ar) och ppm med miljondel(ar). Procent, promille och ppm är alltså inte enheter på samma sätt som kg och mil utan står egentligen i stället för en division med hundra, tusen respektive en miljon.

När vi har förändringar brukar man tala om ökning eller minskning med ett visst antal procent, men om man beskriver förändringen med en indexserie, så anger indextalet till hur många procent något ökat eller minskat jämfört med basåret (då index är 100).

Beräkning av procenttal och promille – division

Hur många procent (promille, ppm) är 5 g av 1,000 kg?

Lösning: Man dividerar med det man jämför med d.v.s. med det som tänks vara 100 % (i detta fall 1,000 kg = 1000 g). Så här

$$\frac{5 \text{ g}}{1\,000 \text{ g}} = 0,005 = 0,5 \% = 5 \text{ ‰} = 5\,000 \text{ ppm}$$

På samma sätt, om något ökar från 1 000 g till 1 005 g får man

$$\frac{1\,005 \text{ g}}{1\,00 \text{ g}} = 1,005 = 100,5 \%$$

## Beräkningar

1. Skriv i decimalform
  - a) 3 ‰
  - b) 15,2 ‰
  - c) 2 ppm
  - d) 25 ppm
2. Beräkna
  - a) 1,5 ‰ av 42 000
  - b) 35 ppm av 60 000
3. I ett land med 8 300 000 invånare föddes ett år 98 000 barn. Hur många promille var det av hela befolkningen?
4. Hur många ppm är 13 g av 6 500 kg?

5. Skriv i promilleform  
a) 0,007      b) 0,001 6      c) 0,012      d) 0,000 2
6. Hur många promille är  
a) 0,15 ml av 25 ml?      b) 75 kr av 50 000 kr?
7. a) Skriv 8 ‰ i decimalform.      b) Beräkna 8 ‰ av 45 000 kr.
8. a) Skriv 3,5 ‰ i decimalform.      b) Beräkna 3,5 ‰ av 48 000 kr.
9. Skriv i ppm-form  
a) 0,000 19      b) 0,000 031
10. Hur många ppm är a) 2 g av 400 kg      b) 0,5 m av 25 km ?
11. a) Uttryck 25 ppm i decimalform. b) Beräkna 25 ppm av 80 000 kg.
12. 3 promille av folkmängden i Sverige är norrmän. Beräkna antalet, då folkmängden är 8 600 000.
13. Vid en kontroll av en bensinpump visade mätaren 50,0 l då man fyllt på 50,2 l. Hur många promille fel visade mätaren?
14. Ett ägg som väger 60 g innehåller 0,72 mg järn. Bestäm järnhalten i ägget uttryckt i ppm.
15. I en förorenad sjö uppmättes DDT-halter på 400 ppm hos fiskarna. Hur mycket DDT innehåller en gädda på 2,3 kg ?
16. Högsta tillåtna nitrithalt i köttvaror sänktes år 1981 från 200 ppm till 150 ppm. Hur många gram nitrit får 2,4 kg kött högst innehålla?
17. Födelsetalet i ett land ökade från 12,5 promille till 13,5 promille. Ange ökningen i  
a) promilleenheter b) promille

### Förändringsfaktorn

Förändringsfaktorn 1,005 betyder en ökning (*till* 100,5 % och) *med* 0,5 %.

Om vi i stället har en minskning från 1 000 g till 995 g får man:

$$\frac{995 \text{ g}}{1 000 \text{ g}} = 0,995 = 99,5 \%$$

Förändringsfaktorn 0,995 betyder en minskning (*till* 99,5% och) *med* 0,5 %.

**Exempel 1:** Kalles lön är 12 400 kr per månad. Den stiger med 8 %. Beräkna den nya lönen.

Metod 1.

Startlön: 12 400 kr

Höjning:  $0,08 \times 12\,400 = 992$  kr

Ny lön:  $12\,400 + 992 = 13\,392$  kr

Metod 2.

Gammal lön = 100 %

Ökningen 8 % innebär att den nya lönen är 108 % av den gamla lönen.

Ny lön =  $1,08 \times 12\,400 = 13\,392$  kr

1,08 kallas tillväxtfaktor eller förändringsfaktor.

**Exempel 2:** En TV kostar 4 900 kr. Den säljs med 8 % rabatt. Beräkna det nya priset.

Metod 1.

Pris = 4 500 kr

Rabatt =  $0,08 \times 4\,900 = 392$  kr

Nytt pris =  $4\,900 - 392 = 4\,508$  kr

Metod 2.

Man betalar  $100\% - 8\% = 92\%$  av priset.

$0,92 \times 4\,900 = 4\,508$  kr d.v.s. samma som i metod 1 men enklare.

Här är tillväxtfaktorn 0,92.

**Exempel 3:** Lisas lön var 12 000 kr. Den höjdes i tre steg, varje gång med 5 %. Beräkna slutlönen.

Metod 1.

Startlön = 12 000 kr

Höjning 1 =  $0,05 \times 12\,000 = 600$  kr

Ny lön =  $12\,000 + 600 = 12\,600$  kr

Höjning 2 =  $0,05 \times 12\,600 = 630$  kr

Ny lön =  $12\,600 + 630 = 13\,230$  kr

Höjning 3 =  $0,05 \times 13\,230 = 661,50$  kr

Slutlön =  $13\,230 + 661,50 = 13\,891,50$  kr

Metod 2.

$12\,000 \times 1,05 \times 1,05 \times 1,05 = 12\,000 \times 1,053 = 13\,891,50$  kr

Man kan multiplicera ihop flera tillväxtfaktorer i rad.





## Procent och procentenheter

Man skiljer mellan procent och procentenheter. När t.ex. riksbanken sänker diskontot från 5,0 % till 4,5 % säger man att sänkningen är 0,5 procentenheter medan sänkningen i procent är  $0,5/5 = 0,10 = 10 \%$ .

Vid en enkät på en skola svarade 40 % av eleverna att de hade en dator hemma. Året därpå svarade 60 % att de hade en dator. Två ortstidningar redovisade andra årets undersökning på olika sätt. Vilken tidning har redovisat förändringen korrekt?

<b>A-Kuriren</b>	<b>B-Posten</b>
<b>Antalet datorer i hemmen ökar med 20 %</b>	<b>Antalet datorer i hemmen ökar med 50 %</b>
XXXXXXXXXXXXXXXXXXXX XXXXXXXXXXXXXXXXXXXX XXXXXXXXXXXX	XXXXXXXXXXXXXXXXXXXX XXXXXXXXXXXXXXXXXXXX XXXXXXXXXXXXXXXXXXXX XXXXXXXXXXXX

Om ett pris på 40 kr ökar till 60 kr kan vi säga att  
- ökningen är 20 kr eller  
- ökningen är  $20/40 = 0,5 = 50 \%$

En prisändring kan vi uttrycka i kronor eller procent. På ett liknande sätt kan vi uttrycka förändringar av en procentsats. Om en procentsats ökar från 40 % till 60 % säger vi att  
- ökningen är 20 *procentenheter* eller  
- ökningen är  $20/40 = 0,5 = 50 \%$

Du ser att B-Posten ger korrekt information. A-Kuriren skulle ha skrivit "Antalet datorer i hemmen ökar med 20 procentenheter".

**Exempel 1:** Banken sänkte räntesatsen från 5 % till 4,4 %. Hur stor var räntesänkningen i  
a) procentenheter                      b) procent?

**Uträkning:**

a) Sänkning från 5 % till 4,4 %. Sänkningen var 0,6 på 5. Sänkningen var 0,6 procentenheter.

$$\text{b) } \frac{\text{sänkningen}}{\text{gamla värdet}} = \frac{0,6}{5} = 0,12 = 12 \%$$

Svar: a) 0,6 procentenheter                      b) 12 %

## Beräkningar

- Räntesatsen på ett bankkonto är 4 %. Vad blir den nya räntesatsen om den
  - höjs med 1 procentenhet?
  - sänks med 0,5 procentenheter?
- Med hur många procentenheter har räntesatsen ändrats om den ändras
  - från 7 % till 10 %?
  - från 4,5 % till 3 %?
- Arbetslösheten ökade under ett år från 8 % till 10 %. Hur stor var ökningen i
  - procentenheter?
  - procent?
- Räntesatsen på ett lån är 11 %. Vilken blir den nya räntesatsen om den
  - höjs med 2 procentenheter?
  - sänks med 1 procentenhet?
- Skatten höjdes för vissa inkomster från 50 % till 55 %. Hur många procentenheter höjdes skatten?
- En försäljares provision ändras vid en löneförhandling från 25 % till 30 %.
  - Hur många procentenheter ökar provisionen?
  - Beräkna  $\frac{\text{ökningen}}{\text{ursprunglig provision}}$
  - Hur många procent ökar provisionen?
- Marknadsandelen för ett bilmärke ökade från 10 % till 13 %. Hur stor var ökningen i
  - procentenheter?
  - procent?
- En butik lämnade ett år 5 % i återbäring. Året därpå sänktes återbäringen till 4 %. Hur stor var sänkningen i
  - procentenheter?
  - procent?
- Födelseantalet i ett land ökade med 0,1 procentenheter till 1,1 %.
  - Vilket var födelseantalet före ökningen?
  - Hur stor var ökningen i procent?
- Enligt en väljarundersökning minskade moderaternas andel av väljarkåren från 30 % till 27 %. Två tv-kanaler sa så här

*TV-12:* Moderaterna minskar med 10 %

*Q-TV:* Moderaterna minskar med 3 %

Vilken TV-kanal presenterar nyheten korrekt? Förklara.



## Beräkning av procentsatsen och nya värdet


**Problem:** *Beräkning av procentsatsen*

Vi vet gamla värdet och nya värdet. Vi vill veta förändringen i procent.

**Exempel 1:** Pia fick vid en utförsäljning köpa en moped som kostar 5 600 kr för 4 200 kr. Hur många procents rabatt fick Pia?

1. Rabatten i kr = 5 600 kr – 4 200 kr = 1 400 kr

2. Rabatten i procent =  
$$\frac{\text{rabatten}}{\text{gamla priset}} = \frac{1\,400}{5\,600} = 0,25 = 25\%$$



**Svar:** Pia fick 25 % rabatt.

När du ska beräkna hur stor en förändring är i procent ska du ställa upp:

$$\frac{\text{ökningen}}{\text{gamla värdet}} \quad \text{eller} \quad \frac{\text{minskningen}}{\text{gamla värdet}}$$

**Problem:** *Beräkning av nya värdet*

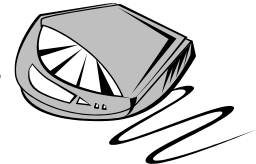
Vi vet gamla värdet och förändringen i procent. Vi vill veta nya värdet.

**Exempel 2:** En CD-spelare kostar 700 kr. Vad kostar den om priset höjs med 15 %?

1. Gamla priset = 700 kr

2. Ökning i kr = 15 % av 700 kr =  $0,15 \times 700$  kr = 105 kr

3. Nya priset = 700 kr + 105 kr = 805 kr



**Svar:** CD-spelaren kostar 805 kr efter prisökningen.

När du ska beräkna det nya värdet vid en förändring ska du ställa upp:

$$\begin{aligned} \text{Nya värdet} &= \text{gamla värdet} + \text{ökningen} && \text{eller} \\ \text{Nya värdet} &= \text{gamla värdet} - \text{minskningen} \end{aligned}$$

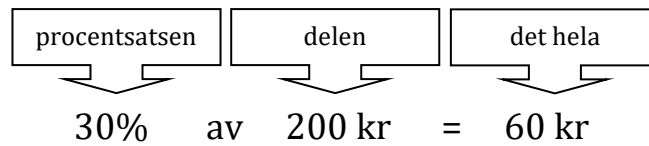
### Beräkningar

1. En CD-skiva som kostar 150 kr säljs för 135 kr.
  - a) Hur stor är rabatten i kronor?
  - b) Hur stor är rabatten i procent?
2. Ett månadskort för buss kostade 350 kr. Man beslutade att höja priset med 12 %.
  - a) Hur stor blev höjningen i kronor?
  - b) Vad kostade månadskortet efter höjningen?
3. En bilist ökar hastigheten från 50 km/h till 70 km/h. Med hur många procent ökar den?
4. En person som väger 80 kg bantar bort 10 % av vikten. Vad väger han sedan?
5. Vid en längdhoppstävling ökade Mattias sitt personliga rekord från 600 cm till 630 cm. Bestäm
  - a) ökningen i cm,
  - b) ökningen i procent.
6. En jacka för 400 kr säljs med 30 % rabatt.
  - a) Bestäm rabatten i kronor.
  - b) Bestäm det nya priset.
7. Ett flygplans hastighet sänks från 750 km/h till 600 km/h. Med hur många procent sjunker farten?
8. Folkmängden i en kommun är 50 000. Hur stor blir den om den
  - a) ökar med 3 %?
  - b) minskar med 2 %?
9. Beräkna den procentuella ändringen när ett pris ändras
  - a) från 200 kr till 250 kr,
  - b) från 250 kr till 200 kr.
10. För en begagnad bil betalar Martin 42 000 kr. Värdeinsnkningen per år uppskattas till 10 %. Vad bör då bilen vara värd ett år senare?
11. Matilda sätter in 3 000 kr på ett konto i en bank. Banken ger 3,5 % i årsränta. Hur mycket har Matilda på kontot efter 1 år?
12. Skriv text till en procentuppgift som ger beräkningen
  - a)  $620 + 0,15 \times 620$
  - b)  $800 - 0,05 \times 800$



## Vilken procentsats?

### Tre basproblem



### Vi söker procentsatsen

**Exempel 1:** Hur många procent är 60 kr av 200 kr?

$$\frac{\text{delen}}{\text{det hela}} = \frac{60}{200} = 0,30 = 30\%$$

**Svar:** 30 %

### Vi söker delen

**Exempel 2:** Hur mycket är 30 % av 200 kr?

1 % av 200 kr är  $1/100$  av 200 kr = 2 kr

Men  $0,01 \times 200$  kr = 2 kr, d.v.s.

1 % av 200 kr =  $0,01 \times 200$  kr = 2 kr, och

30 % av 200 kr =  $30 \times 0,01 \times 200$  kr =  $0,30 \times 200$  kr = 60 kr

Vi kan direkt skriva

30 % av 200 kr =  $0,30 \times 200$  kr = 60 kr

**Svar:** 60 kr

$30 \times 0,01 =$

Överför till decimalform

### Vi söker det hela

**Exempel 3:** 30 % av en summa är 60 kr. Hur stor är summan?

30 % av en summa är 60 kr.


1 % av summan är  $60/30$  kr = 2 kr

100 % av summan är  $100 \times 2$  kr = 200 kr

**Svar:** 200 kr



### Beräkningar

1. Hur många procent är a) 9 g av 45 g b) 213 ton av 355 ton?
  2. Beräkna a) 5 % av 140 kr b) 16 % av 3850 kr
  3. a) 2 % av ett tal är 10. Vilket är talet?  
b) 15 % av en sträcka är 6 750 m. Hur lång är sträckan?
  4. a) Hur många procent är 360 kr av 3 000 kr?  
b) Hur mycket är 25 % av 7 000 kr?  
c) 6 % av ett tal är 18. Vilket är talet?
  5. a) Hur mycket är 8,5 % av 4 000 km?  
b) 9 % av ett tal är 36. Vilket är talet?  
c) Hur många procent är 405 m av 9 000 m?
  6. Hur många procent är 72 kr av 288 kr?  
a) Hur många kronor är delen?  
b) Hur många kronor är det hela?  
c) Beräkna  $\frac{\text{delen}}{\text{det hela}}$  och besvara frågan.
- 
7. Hur många procent är  
a) 3 av 5 b) 3 av 12 c) 5 av 25 d) 72 av 600?
  8. Hur mycket är 12 % av 750 kr?  
a) Skriv 12 % i decimalform.  
b) Ställ upp hur man beräknar 12 % av 750 kr.  
c) Gör beräkningen och besvara frågan
  9. Beräkna  
a) 10 % av 240 b) 15 % av 400 c) 6 % av 8 500 d) 3 % av 600
  10. 5 % av ett tal är 750  
a) Vad är 1 % av talet? b) Vad är 100 % av talet? c) Vilket är alltså talet?
  11. a) 3 % av ett tal är 60. Vilket är talet?  
b) 12 % av ett tal är 60. Vilket är talet?  
c) 40 % av ett tal är 60. Vilket är talet?
  12. Hur många procent är a) 702 kr av 3 510 kr? b) 70 g av 875 g?
  13. Beräkna a) 6 % av 75 miljoner b) 75 % av 24 m
  14. a) Hur många procent är 12 av 60?  
b) 8 % av ett tal är 24. Vilket är talet?  
c) Hur mycket är 30 % av 250?

15. a) Hur mycket är 90 % av 740?  
b) Hur många procent är 14 av 56?  
c) 9 % av ett tal är 63. Vilket är talet?
16. Beräkna  
a) 14 % av 250 kr    b) 14,4 % av 500 mm    c) 6,2 % av 400 m    d) 82,5 % av 200 l
17. Hur många procent är  
a) 408 kg av 2 000 kg?  
b) 5 239 personer av 6 500 personer?
18. a) 2 % av en sträcka är 240 m. Hur lång är sträckan?  
b) 2,5 % av ett kapital är 9 600 kr. Hur stort är kapitalet?
19. a) Hur många procent är 484 g av 800 g?  
b) Beräkna 4,2 % av 12 000 km.  
c) 8,5 % av ett kapital är 425 kr. Hur stort är kapitalet?
20. Pelle räknar ut 0,15 av 90 så här:  $0,1 \times 90 = 9$   
– Vad gör han för fel?
21. Hur vet du vilket av bråken  
 $\frac{11}{42}$      $\frac{3}{31}$      $\frac{75}{76}$      $\frac{29}{41}$      $\frac{26}{51}$   
som är ungefär lika med  
a) 100 %    b) 50 %    c) 25 %    d) 10 %?



## 4 Geometri

### Mäta med linjal

Att mäta med linjal, måttband eller tumstock är en viktig del av de geometriska kunskaperna. En vanlig linjal brukar vara ungefär 3 dm lång medan längden på måttband varierar väldigt.

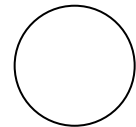
Vanliga geometriska figurer som används är rektangeln, kvadraten, cirkeln och triangeln.

Rektangeln har fyra sidor och alla vinklar är räta, d.v.s.  $90^\circ$ . Exempel på rektanglar är våra dörrar, fönster och golvytor.



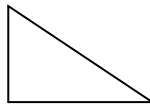
Kvadraten är en speciell form av rektangel där alla fyra sidorna är lika långa.

Cirkeln är rund med konstant avstånd från centrum till



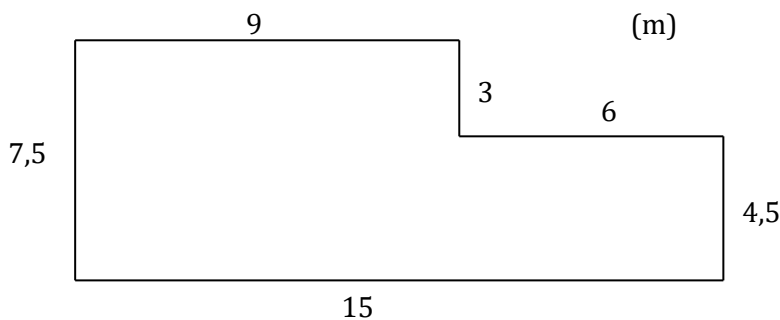
ytterkant.

Triangeln har tre hörn och tre sidor.



### Omkrets

Kalle ska lägga kantsten runt parkeringsplatsen. Platsen har de mått som figuren visar.




Måtten är angivna i meter eftersom det finns ett m inom parentes i figurens övre högra hörn.

Hur mycket kantsten går det åt? Vi adderar och får  $9\text{ m} + 3\text{ m} + 6\text{ m} + 4,5\text{ m} + 15\text{ m} + 7,5\text{ m} = 45\text{ m}$ .

Detta kallas för figurens omkrets.





Omkrets = summan av alla sidornas längder.  
Cirkelns area beräknas med hjälp av ett matematiskt värde som kallas för pi och betecknas med den grekiska bokstaven  $\pi$ .

Omkretsen av en cirkel är  $\pi \times \text{diametern} = \pi \times d$ .

## Längdenheter

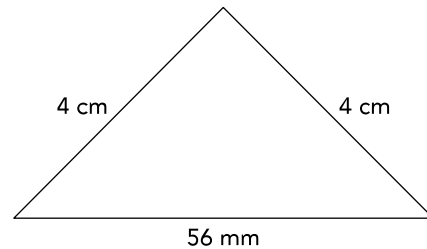
Längden är en grundläggande geometrisk storhet, exempelvis avståndet mellan en sträckas båda ändpunkter. Längden betecknas vanligen l eller s och mäts i längdenheter. SI-enhet är en meter (1 m).

Hur stor omkrets har triangeln?

För att kunna addera triangelns sidor krävs att de mäts i samma enhet. Omvandla till cm eller mm.

$$56 \text{ mm} = 5,6 \text{ cm}$$


$$\text{Omkretsen} = 5,6 + 4 + 4 = 13,6 \text{ cm.}$$



1 mil = 10 km
1 km = 1 000 m
1 m = 10 dm
1 dm = 10 cm
1 cm = 1 mm

## Area

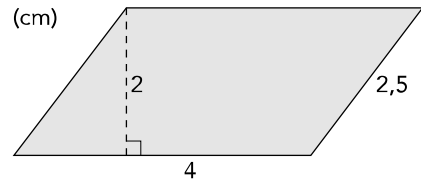
Att beräkna en yta är detsamma som att beräkna en area. Det kan t.ex. vara en golvyta eller en trädgårdsarea. Beroende på vilken form ytan har används en del olika formler. Ett enkelt golv har ofta formen av en rektangel.



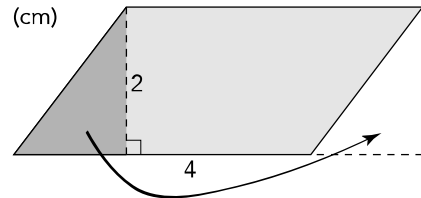
Vad är arean på golvet?

$$\text{Arean} = \text{basen} \times \text{höjden} = 24 \times 9 = 216 \text{ m}^2$$

Ett parallelogram beräknas på samma vis, enda problemet är att ta reda på höjden. Figuren visar en parallelogram med basen 4 cm och höjden 2 cm. Lägga märke till att höjden går vinkelrät mot basen och att det inte är sidan som är höjden.



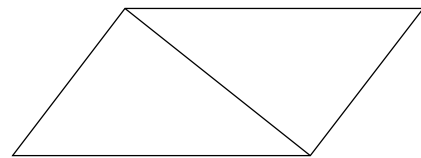
Om vi flyttar den mörkare delen som figuren visar, får vi i stället en rektangel med samma bas och höjd som parallelogrammen. Vi får alltså parallelogrammens area genom att multiplicera basen med höjden.



Triangelns area beräknas med formeln:

$$\text{Area} = \frac{\text{basen} \times \text{höjden}}{2}$$

Detta kan man bevisa genom att använda ett parallelogram och dela det som figuren visar. Var och en av trianglarna har en area som är hälften så stor som parallelogrammens area.



## Cirklar

Det finns många sätt att beskriva en cirkel. Ett alternativ är att säga att det är någonting helt runt. Matematikerna väljer att definiera en cirkel som "mängden av de punkter i ett plan, vilka ligger på ett bestämt avstånd,  $r$ , från en bestämd punkt,  $M$ , i planet, är en kurva som kallas cirkel".

Olika beskrivningar av samma sak...

$M$  är cirkelns medelpunkt eller centrum.

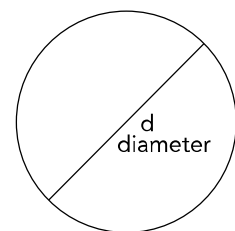
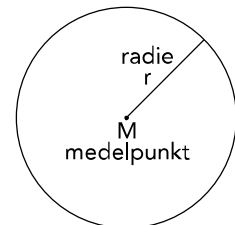
Radie ( $r$ ) är en sträcka från medelpunkten till en punkt på cirkeln.

Kurvans längd kallas cirkelns omkrets eller periferi.

Omkretsen för en cirkel är:  $2 \times \pi \times r$

$\pi$  (pi) är ett slags *irrationellt* tal (transcendent), dess närmevärde med 5 decimaler är 3,14159.

En cirkelbåge är en sammanhängande del av cirkeln.



Arean för en cirkel är  $\pi \times r^2$  eller  $\pi \times d^2/4$  vilket är samma sak.

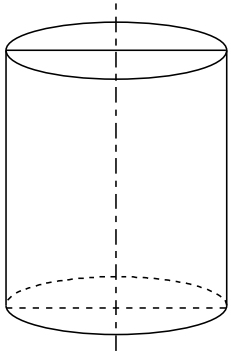
## Cylindrar, koner

En cylinder är en kropp, som begränsas av en cylindrisk yta (mantelytan) och två parallella plan (basytorna).

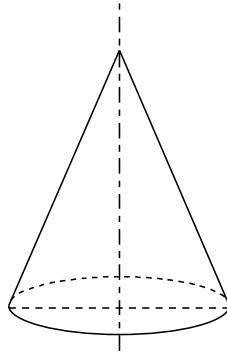
Cylinderns höjd = avståndet mellan basytorna.

Då man i dagligt tal talar om cylinder avser man oftast en rak cirkulär cylinder.

En liksidig cylinder är en rät cirkulär cylinder, vars axelsnitt utgöres av en kvadrat.



Rak cirkulär cylinder



Rak cirkulär kon

## Mantelarea

Om du lindar papper kring en cylinder, klipper av det så att det passar precis och rullar ut pappret har du mantelarean.

$$A = \pi \times d \times h$$

Ordet area kommer från latin och betyder egentligen 'öppen plats', 'jämn plan', 'plan yta'. Tidigare användes begreppet yta, men idag föredras ordet area som mått på en figurs ytinnehåll. Arealen betecknas vanligen A eller S och mäts i areaenheter. SI-enhet är en kvadratmeter ( $1 \text{ m}^2$ ).

## Areaenheter

I många sammanhang vill man veta hur stort ett område är. Man ska kanske flytta till en ny lägenhet, lägga ett nytt golv eller måla om köket. Då man anger ett områdes storlek, anger man dess area i t.ex. kvadratmeter. En kvadrat med sidan 1 m har arean  $1 \text{ m}^2$ .

$1 \text{ m}^2$	$= 100 \text{ dm}^2$
$1 \text{ dm}^2$	$= 100 \text{ cm}^2$
$1 \text{ cm}^2$	$= 100 \text{ mm}^2$

Lägg märke till att omvandlingstalet för areor är 100 medan den är 10 för längder.

**Exempel 1:** Beräkna arean av rektangeln.

Sidorna är 3 och 5 cm.

$$A = b \times h = 5 \times 3 = 15 \text{ cm}^2$$




**Exempel 2:** Beräkna mantelarean av ett cylindriskt rör med rördiametern 28 cm. Röret är 2 m långt.

$$A = \pi \times d \times h = 3,14 \times 28 \times 200 = 17\,584 \text{ cm}^2.$$

**Exempel 3:** Hur stor är den cirkulära mattans area?  
Radien är 1,5 m.

$$A = \pi \times r^2 = \pi \times 1,5^2 = 7,1 \text{ m}^2$$




## Beräkningar

1. Vilken sträcka måste man känna till för att kunna räkna ut arean av en cirkel?
2. I vilken enhet svarar man enklast när man räknat ut arean av en cirkel med diametern 6 dm?
3. En cirkel har radien 4 m och en kvadrat har sidan 7,1 m. Vilken av figurerna har en area närmast 50 m<sup>2</sup>?
4. Vad blir arean av en rektangel med sidorna 3,4 m och 56 cm?

## Volym

För att beräkna en volym av en kub eller ett rätblock används formeln:  $V = A \times b$   
Det innebär att arean av "golvet" multipliceras med höjden.

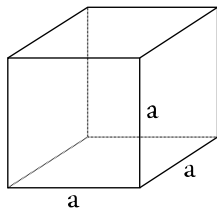


Ordet volym kommer från det latinska ordet volumen som betyder 'skriftrulle'; 'krök(ning)', av volvo 'vrida runt', 'rulla runt'), storhet för den del av rummet som uppfylls av en solid kropp. Volymen betecknas vanligen  $V$ . Volym mäts i volymenheter, och en volymenhet är volymen av en kub vars sidlängd är en längdenhet. SI-enheten är en kubikmeter (1 m<sup>3</sup>) med en liter (1 l) som tilläggsenhet.

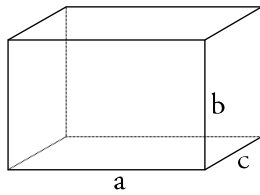
För att beräkna volymen av en cylinder multipliceras bottenarean med höjden.

$$V = \pi \times r^2 \times h$$

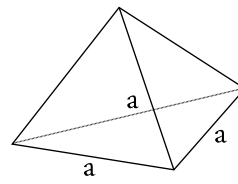
Volymen av en sfär beräknas som  $4\pi \times r^3 / 3$ .



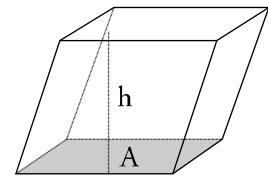
kub  $a^3$



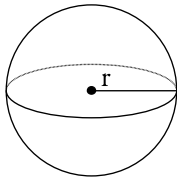
rätblock  $a \times b \times c$



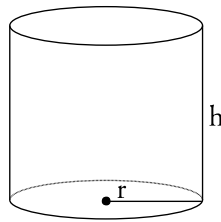
tetraeder  $a^3 \times \sqrt{2} / 12$



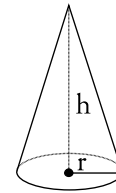
parallelepiped  $A \times h$



sfär  $4\pi \times r^3 / 3$



cylinder  $\pi \times r^2 \times h$



kon  $\pi \times r^2 \times h / 3$

## Volymenheter

Ofta mäts volym i  $m^3$  eller liter, men det beror givetvis på vilken enhet som passar bäst i situationen.

$1m^3$	$= 1\,000\, dm^3 = 1\,000\,000\, cm^3 = 1\,000\,000\,000\, mm^3$
$1\, dm^3$	$= 0,001\, m^3$
$1\, cm^3$	$= 0,000\,001\, m^3$
$1\, liter$	$= 1\, dm^3$

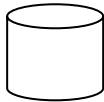
**Exempel 1:** Beräkna arean av en kub med sidan 1 m.  
 $A = l \times b \times h = s \times s \times s = 1 \times 1 \times 1 = 1\, m^3$

**Exempel 2:** En varmvattenberedare har formen av en cylinder med måtten 3 m hög, diametern är 1 m.  
 $A = \pi \times r^2$   
 $V = A \times h = \pi \times r^2 \times h = 3,14 \times 0,52 \times 3 = 2,355\, m^3 =$   
 $2,355 \times 1000\, dm^3 = 2\,355\, dm^3 = 2\,335\, liter.$


## Beräkningar

1. Nederbörden, i form av regn, som faller på ett tak med arean  $140 \text{ m}^2$  rinner via stuprännor och rör ned i tunnor. Vid ett tillfälle regnade det  $22 \text{ mm}$  på en timme. Hur stor volym vatten rann ner i stuprören under denna timme?
2. En vattentoalett spolar  $10 \text{ l}$  vatten vid varje spolning.
  - a) Hur många  $\text{dm}^3$  är det?
  - b) Efter hur många spolningar har man spolat bort  $1 \text{ m}^3$ ?
3. En flaska vaccin innehåller  $250 \text{ ml}$ .
  - a) Vid varje vaccination ges  $2 \text{ cm}^3$ . Hur många ml ges då?
  - b) Hur många vaccinationer räcker flaskan till?
4. Vad heter figurerna i bilden?

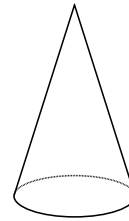
a)



b)



c)



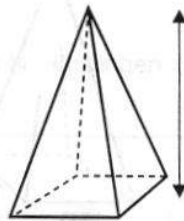
5. Använd rätt formel och räkna ut varje kropps volym

$$V = B \times h$$

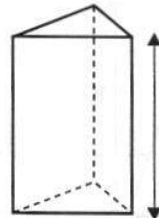
$$V = B \times h / 3 \quad (B = \text{Bottenytans area})$$



$$B = 2,6 \text{ m}^2$$



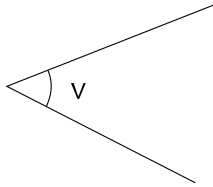
$$B = 2,6 \text{ m}^2$$



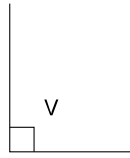
$$B = 2,6 \text{ m}^2$$

## Trianglar och vinklar

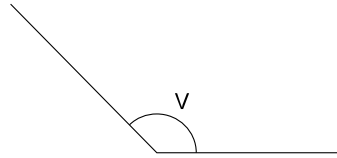
Du känner säkert till att vi mäter vinklar i grader. 1 varv motsvarar  $360^\circ$ . En normal tårtbit är mellan  $30^\circ$  och  $45^\circ$ . Det är praktiskt att ge vissa vinklar namn. En vinkel är spetsig om den ligger mellan  $0^\circ$  och  $90^\circ$ . Den är rät om den är  $90^\circ$  och den är trubbig om den ligger mellan  $90^\circ$  och  $180^\circ$ .



$$0 < V < 90$$



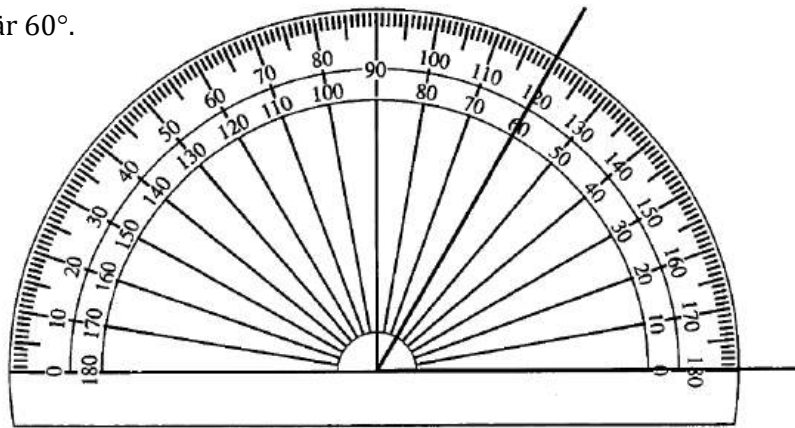
$$V = 90$$



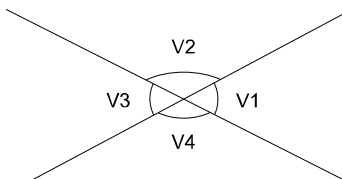
$$90 < V < 180$$

För att mäta vinklar används gradskivor.

Vinkelns storlek i figuren är  $60^\circ$ .



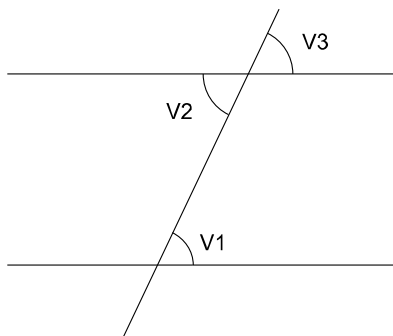
När två linjer skär varandra bildas vertikalvinklar.



Här är  $V1 \Leftrightarrow V3$  och  $V2 \Leftrightarrow V4$  vertikalvinklar.

$V1 \Leftrightarrow V2$  är s.k. sidovinklar.  $V1 + V2 = 180^\circ$ .

Ett annat namn är supplementvinklar (tillsammans  $180^\circ$ ).



När en tredje linje skär två parallella linjer bildas alternatvinklar,  $V1 \Leftrightarrow V2$  och likbelägna vinklar  $V1 \Leftrightarrow V3$ .

## 5 Trigonometri

På din räknare har du tre tangenter märkta **SIN**, **COS** och **TAN**.

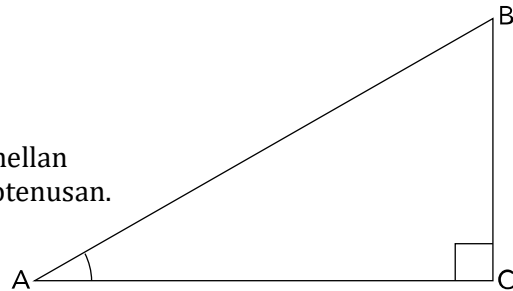
Nu ska vi som en orientering visa dig vad de står för och hur det kan användas vid beräkningar i rätvinkliga trianglar.

I en rätvinklig triangel ABC gäller:

### Sinus är en kvot

Sinus för den spetsiga vinkeln A är förhållandet mellan (kvoten mellan) motstående sida (till A) och hypotenusan.

$$\sin A = \frac{\text{motstående sida (till A)}}{\text{hypotenusan}}$$



Denna kvot beror bara av vinkelns storlek och inte av triangelns storlek.

### Bestäm sin 30°

I triangeln ABC (ovan) är vinkeln A = 30°. Mäter du sidorna, finner du att BC = 35 mm och AB = 70 mm.

$$\sin 30^\circ = \frac{\text{motstående sida (till A)}}{\text{hypotenusan}} = \frac{35}{70} = 0,5$$

### Räknaren

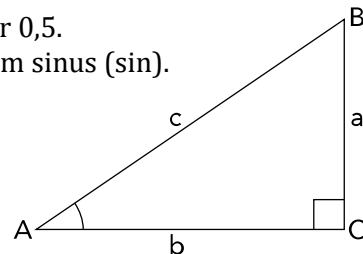
Sätt räknaren på grader (deg) och kontrollera att 30 **SIN** ger 0,5.

Cosinus (cos) och tangens (tan) definieras på liknande sätt som sinus (sin).

Med figurens beteckningar blir det

$$\sin A = a/c \quad \cos A = b/c \quad \tan A = a/b$$

Försök uttrycka dessa definitioner i ord!





### Några exempel

Trigonometri används ofta för att bestämma sträckor och vinklar som inte går att mäta direkt.

**Exempel 1:** På stranden till en älv mäter vi upp en sträcka  $AC = 42$  m och bestämmer en punkt B på andra stranden så att vinkeln C blir rät. Därefter mäter vi vinkeln A och får  $58^\circ$ . Hur bred är älven?

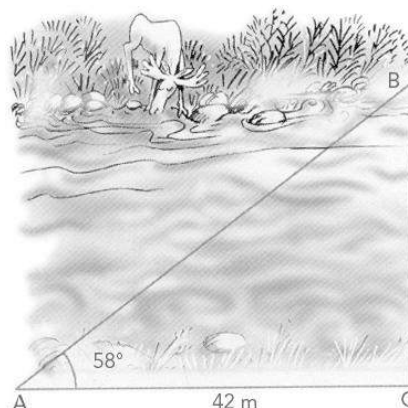
Vi låter  $BC = x$  m  
Kvoten  $x/42$  är lika med  $\tan 58^\circ \approx 1,6$

$$\frac{x}{42} = 1,6$$

$$x = 42 \times 1,6$$

$$x = 67,2$$

Med räknare



**Svar:** Älven är 67 m bred.


**Exempel 2:** Figuren visar en skiss till ett uterum. Hur stor är takets lutningsvinkel  $v$ ?

$$\sin v = \frac{0,75}{4,25} = 0,17647$$

Hur får vi vinkeln  $v$  när vi vet sinus för  $v$ ? Det är den omvända (inversa) proceduren till att bestämma  $\sin v$  då du vet  $v$ .

0,17647   ger 10,164

**Svar:** Vinkeln är  $10,2^\circ$ .



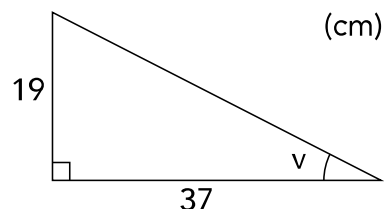
**Exempel 3:** Beräkna vinkeln  $v$ .

Definitionen av tangens ger  $\tan v = \frac{19}{37}$

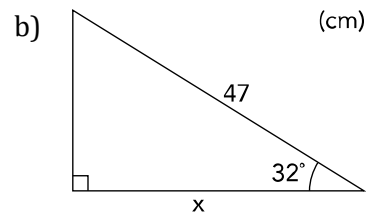
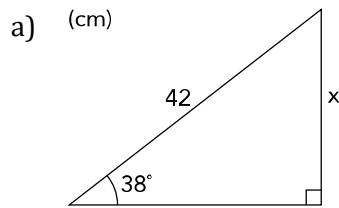
Räknaren (ställd på räkning i grader) ger 27,181...

Vi avrundar till två siffror  $v \approx 27^\circ$ .

**Svar:** Vinkeln  $v$  är  $27^\circ$ .



**Exempel 4:** Beräkna längden av den sträcka som markerats med x.



a) Definitionen av sinus ger  $\sin 38^\circ = \frac{x}{42}$

$$x = 42 \times \sin 38$$

Räknaren ger 25,857...  $x \approx 26$

**Svar:** Sträckan är 26 cm

b) Definitionen av cosinus ger  $\cos 32^\circ = \frac{x}{47}$

Räknaren ger 39,858...  $x \approx 39,858$

**Svar:** Sträckan är 40 cm.

**Exempel 5:** När vi står 20 meter från ett träd så uppmäts vinkeln v i figuren till 51°. Vilken höjd har trädet?

I figuren är x *motstående* katet till vinkeln v medan sidan som är 20 meter lång är *närliggande* katet (den närliggande kateten är den sida som både bildar rät vinkel med en annan sida i triangeln och som dessutom spänner upp vinkeln v.

Med hjälp av formeln ovan får vi ekvationen:

$$\tan(51^\circ) = \frac{x}{20}$$

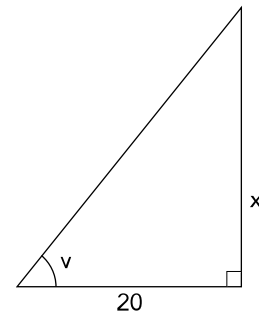
51  ger avrundat 1,235.

$$1,235 = \frac{x}{20}$$

För att få x fritt på höger sida måste vi multiplicera upp 20. Vi får:  
 $20 \times 1,235 = x$

och med huvudräkning kan vi exempelvis räkna  $2 \times 12,35 = 24,7$ .

**Svar:** Trädet är 24,7 m högt.



**Exempel 6:** Hur stora är vinklarna  $v$  och  $u$  i figuren?

Med hjälp av formeln får vi ekvationen (varför?):

$$\tan(v) = \frac{24,7}{20}$$

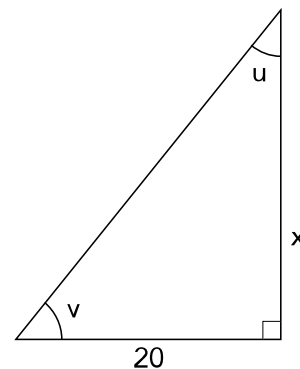
Tan för något okänt ska alltså bli

$$24,7 / 20 = (24,7 / 2) / 10 = 12,35 / 10 = 1,235$$

1,235   ger att vinkeln då måste vara  $51^\circ$ .

Eftersom summan av vinklarna i en triangel alltid är  $180^\circ$  så får vi vinkeln  $u = 180^\circ - 90^\circ - 51^\circ = 39^\circ$ .

**Svar:** Vinkeln  $v = 51^\circ$  och vinkeln  $u = 39^\circ$ .



I exemplet ovan använder vi den inversa funktionen till tangens för att få fram vinkeln:  $\tan^{-1}$ . Blanda inte ihop denna med  $\tan$ .  $\tan^{-1}$  är "baklängesfunktionen" till  $\tan$ .  $\tan$  använder vi när vi känner vinkeln och vill ha ut sidan medan  $\tan^{-1}$  används när vi känner sidorna och vill ha ut vinkeln.

**Exempel 7:** Bestäm vinklarna  $v$  och  $u$  i figuren.

$$\tan(v) = \frac{7,0}{10,0}$$

$$\tan(v) = 0,70$$

$$v = \tan^{-1}(0,70)$$

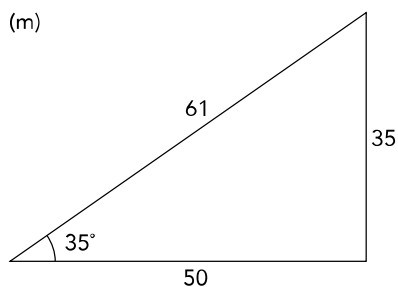
$$v \approx 35^\circ$$

Eftersom summan av vinklarna i en triangel alltid är  $180^\circ$  så får vi vinkeln  $u = 180^\circ - 90^\circ - 35^\circ \approx 55^\circ$ .

**Svar:** Vinkeln  $v = 35^\circ$  och vinkeln  $u = 55^\circ$ .

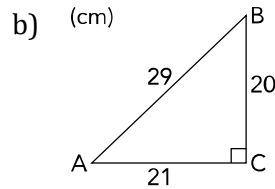
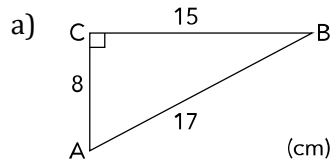
## Beräkningar

- Använd måtten i figuren nedan för att med två decimaler bestämma  
a)  $\sin 35^\circ$       b)  $\cos 35^\circ$       c)  $\tan 35^\circ$

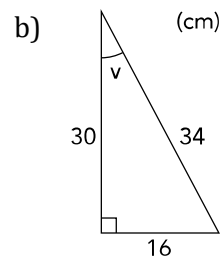
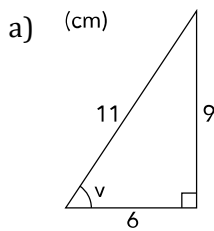


2. Använd din räknare för att bestämma  
 a)  $\sin 35^\circ$       b)  $\cos 35^\circ$       c)  $\tan 35^\circ$

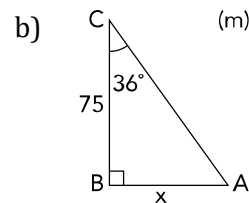
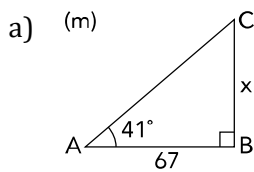
3. Ställ upp och beräkna  $\tan A$  och  $\tan B$  (två decimaler).



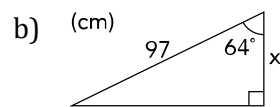
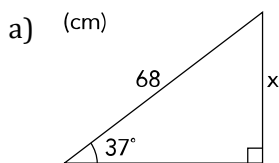
4. Bestäm  $\sin v$  och  $\cos v$  (två decimaler)



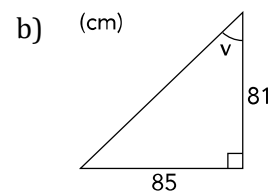
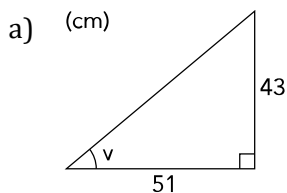
5. Beräkna längden som markeras med x



6. Beräkna längden av de sidor som markerats med x.

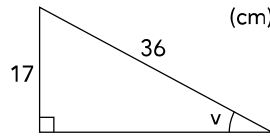


7. Bestäm den obekanta vinkeln v i hela grader.

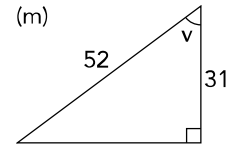


8. Bestäm den obekanta vinkeln  $v$  i hela grader.


a)



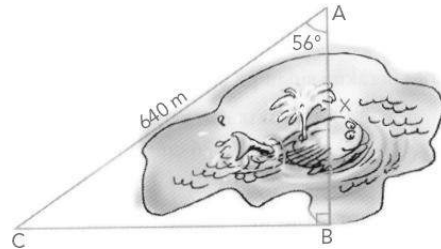
b)



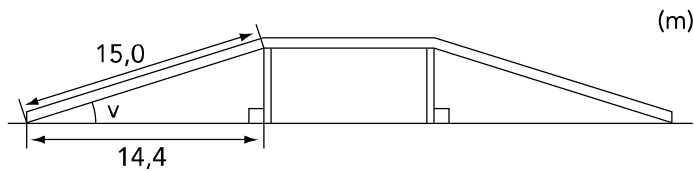
9. Hur högt är trädet?




10. Hur långt är avståndet AB över sjön om vinkeln A är  $56^\circ$  och sträckan AC är 640 m?



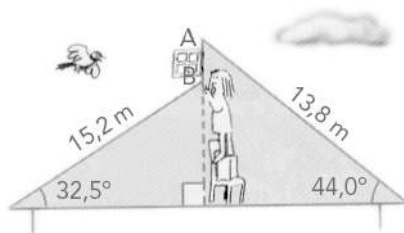
11. En viadukt går över en motorväg. Bestäm lutningen  $v$  (hela grader).



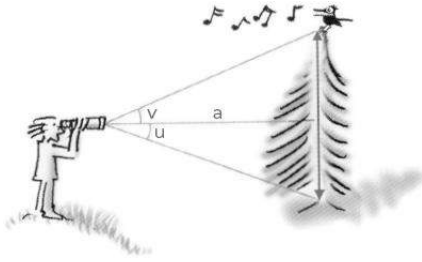
12. Under vilken vinkel sker nedfarten?



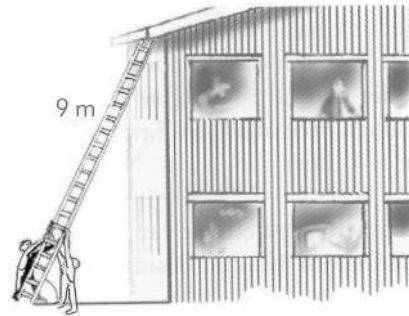
13. Figuren nedan visar en plan genomskärning av ett tak. Hur högt är fönstret AB?



14. Bestäm trädets höjd, då  $a = 28$  m,  $u = 19^\circ$  och  $v = 23^\circ$ .

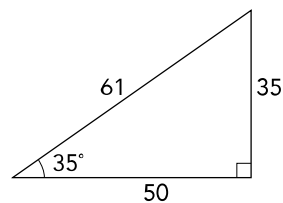


15. För att en 9,0 m lång stege ska stå säkert när den reses mot en vägg får vinkeln med markplanet ej understiga  $64^\circ$  och ej överstiga  $78^\circ$ . Bestäm stegens kortaste respektive längsta avstånd till väggen, då den är i säkert läge.



16. Använd måtten i figuren för att bestämma

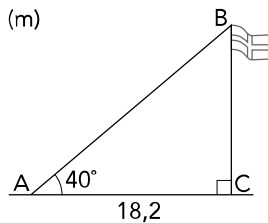
- a)  $\sin 35^\circ$
- b)  $\cos 35^\circ$
- c)  $\tan 35^\circ$



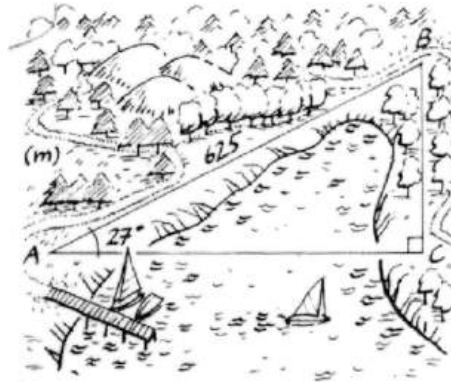
17. Använd miniräknare för att bestämma

- a)  $\sin 35^\circ$
  - b)  $\cos 35^\circ$
  - c)  $\tan 35^\circ$
- (Jämför med värdena i föregående uppgift.)

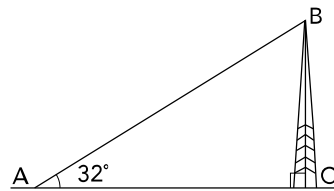
18. Bestäm flaggstångens höjd BC. (m)



19. Bestäm avståndet AC över viken.



20. Hur hög är masten BC, om linan AB = 29 m?



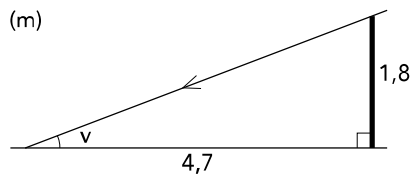
21. Bestäm vinkeln  $v$ , med en decimal, då

- a)  $\tan v = 0,675$       b)  $\sin v = 0,675$

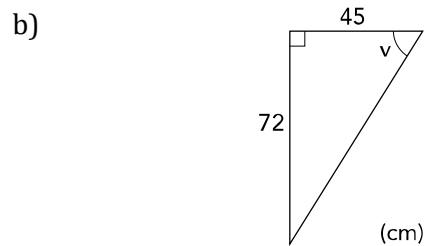
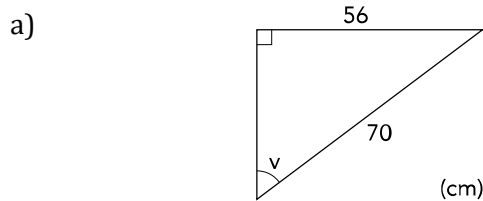
22. Bestäm vinkeln  $v$ , med en decimal, då

- a)  $\tan v = 13/19$       b)  $\cos v = 11/27$

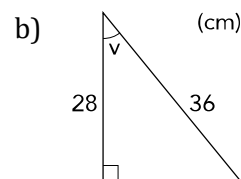
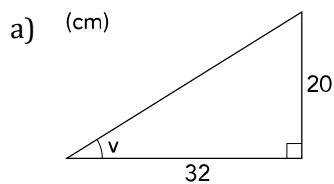
23. En 1,8 m hög käpp kastar en 4,7 m lång skugga. Bestäm vinkeln  $v$ .



24. Bestäm de med  $v$  markerade vinklarna



25. Bestäm de med  $v$  markerad vinklarna.



## 6 Lutning

I vissa tekniska tillämpningar brukar man använda begreppet lutningsprocent som mått på en vinkel. Det kan t.ex. handla om ifall en maskin ska orka upp för en backe.

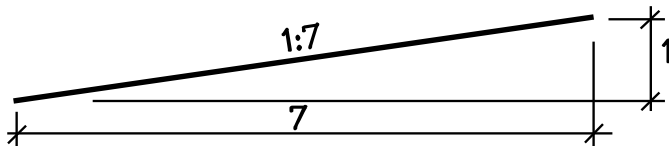


$$\text{Lutningsprocenten} = \frac{\text{Motstående katet}}{\text{Närliggande katet}} = \frac{a}{b}$$

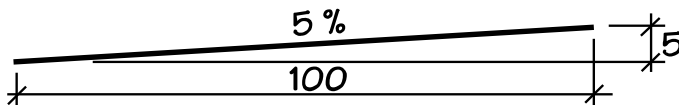
Observera att detta innebär att lutningsprocenten är detsamma som tangens för backens vinkel. I praktiken kan det ofta vara svårt att mäta sträckan b i figuren. I stället kan man då mäta sträckan c. Sträckorna b och c kommer nämligen att vara ungefär lika långa om vinkeln är liten vilken den oftast är i praktiken.

Notera också att i en triangel där a och b är lika stora så kommer lutningsprocenten att bli 100 %.

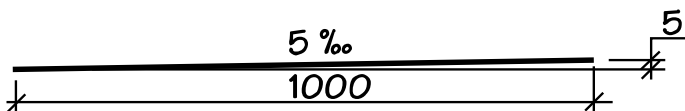
I byggsammanhang anges lutningen på ett antal olika sätt.



Den horisontella längden är 7 och höjden är 1.



Lutningen är 5 %.



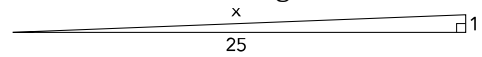
Lutningen är 5 ‰.

Vanlig rekommenderad marklutning från byggnader är 1:20.



**Exempel:** Bestäm lutningsprocenten och sträckan  $x$  i nedanstående figur.

$$\text{Lutningen} = 1/25 = 0,04 = 4 \%$$



Med hjälp av Pythagoras sats får vi den okända sidan  $x$ :

$$25^2 + 1^2 = x^2$$

$$x^2 = 25^2 + 1^2$$

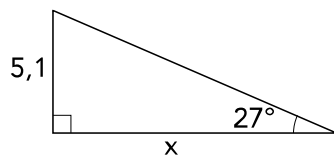
$$x = \sqrt{25^2 + 1^2}$$

$$x \approx 25,02$$

Här blir alltså hypotenusan nästan precis lika lång som den långa kateten. Vi hade alltså fått svaret 4 % på lutningen även om vi använt hypotenusan i stället för kateten.

## Beräkningar

1. Bestäm lutningsprocenten och sidan  $x$  i följande figur. (Figuren är inte skalenlig.)



2. Ett tåg kör uppför en 1 km lång backe. Lutningsprocenten är 8 %.
  - a) Uppskatta hur många meter högre upp tåget befinner sig vid backens slut.
  - b) Beräkna hur många grader backens lutningsvinkel är. Svara på en halv grad när.

## 7 Kartor

Att kunna läsa kartor är mycket användbart både privat och i arbetslivet. Vi stöter på kartor på flertalet ställen i vardagen. Förutom den mest klassiska man tänker sig, en karta över ett område eller en jordglob, så finns det flera andra kartor som de flesta har sett.



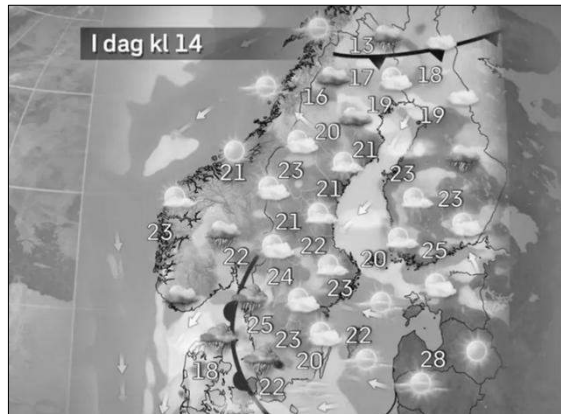
*Karta över område*



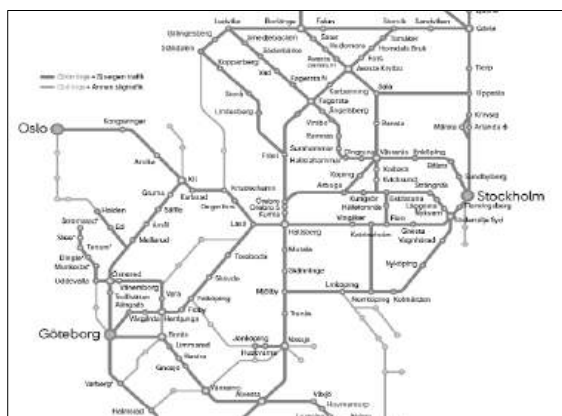
*Världskarta*



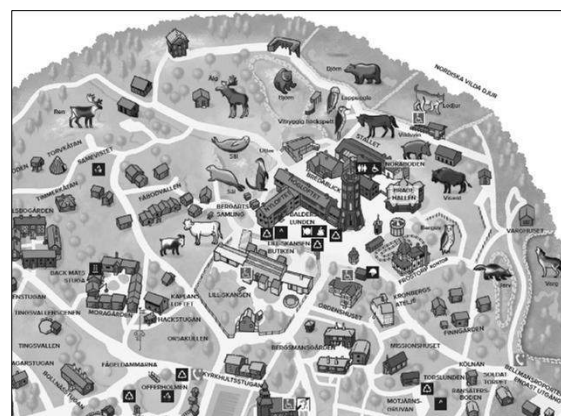
*Skattkarta*



*Väderkarta*



*Tågkarta*

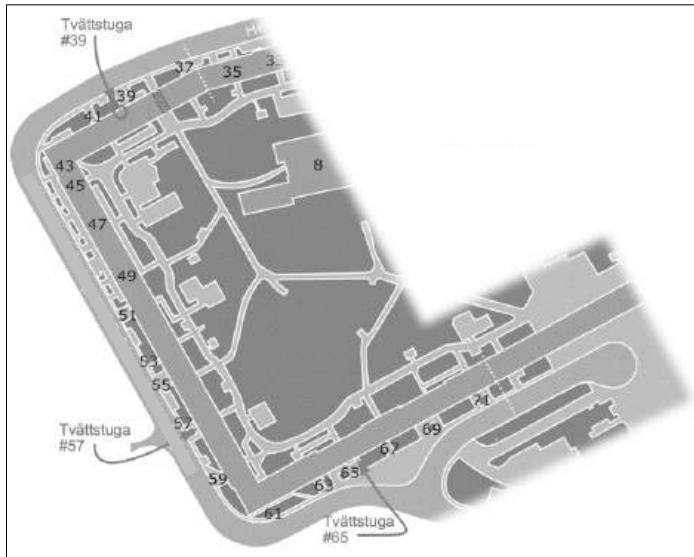


*Djurparks-karta*

## Vad är en karta?

En karta är en bild av verkligheten uppifrån. Det kan vara en stad, ett land eller till och med hela världen. Kartor visar var saker är och hur de förhåller sig till andra saker. Det kan vara vägar, sjöar, berg eller hus. Kartor är användbara för att veta var du är och hur du kan ta dig dit du vill gå.

Inom fastighetsbranschen används t.ex. kartor för att ha koll på sitt fastighetsbestånd eller kunna hänvisa hyresgäster rätt vid inflyttning. Här är ett exempel för att visa var tvättstugorna finns i ett bostadsområde.



## Skala

När man tittar på en karta är det vanligast att objekten man har framför sig har samma förhållanden till varandra både på kartan och i verkligheten - kartan har ritats i en skala.

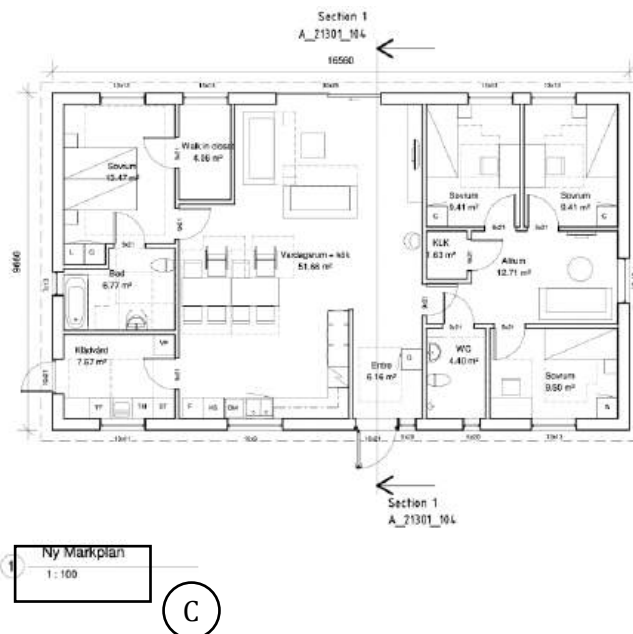
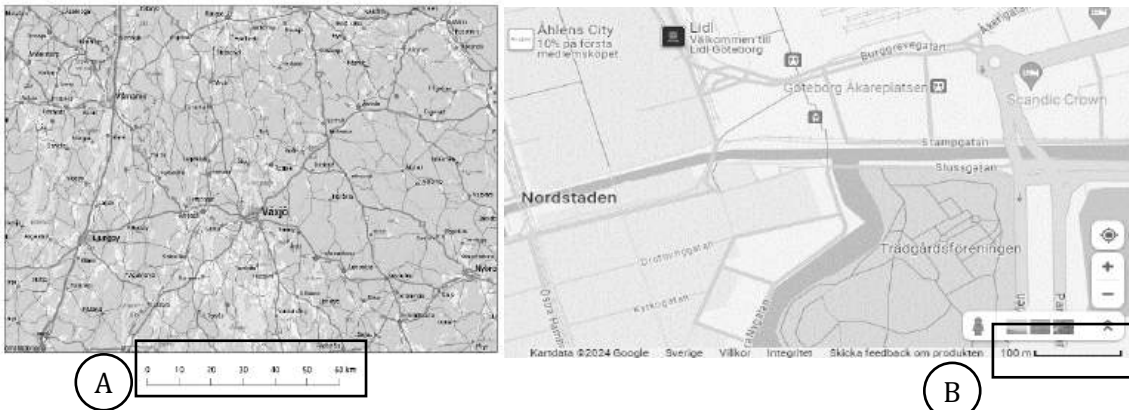
Exempel:

Om en karta är ritad i skala 1:50 (uttal: ett till 50) betyder det att det att verkligheten är 50 gånger större än det du ser på kartan. D.v.s om du mäter med en linjal på kartan och mäter 1 cm, då vet du att verkligheten är 50 cm.

Om skalan i stället är 1:10 000 (ett till 10 000) vet du att 1 cm på kartan motsvarar 10 000 cm (100 m) i verkligheten.

## Hur vet man vilken skala som gäller?

Vilken skala som gäller på en karta står i anslutning till kartan. Det kan se ut på lite olika sätt. Här är några exempel:



Kartors skalor är anpassade efter syftet med kartan. T.ex. i bild A är skalan som angivits i enheten km, detta för att kartans syfte troligtvis är för att köra bil mellan olika stadsdelar i Växjö.

Medan i bild B är skalan angiven i m då det är troligare att syftet med kartan är att man vill veta avståndet för att gå till fots.

När det gäller den här typen av kartor som har en egen "linjal" och inte ett förhållande (t.ex. 1:50) utskrivet, behöver man veta kart-linjalens längd för att kunna ta reda på skalan. Vanligtvis försöker man anpassa så att vid fysisk utskriven karta ska kartlinjalens mått vara 0,5 eller 1 cm. Men i vissa fall stämmer inte det. Ta därför för vana när du ska kolla avstånd på en karta att börja med att mäta kart-linjalens.

Exempel:

**Titta på bild B**

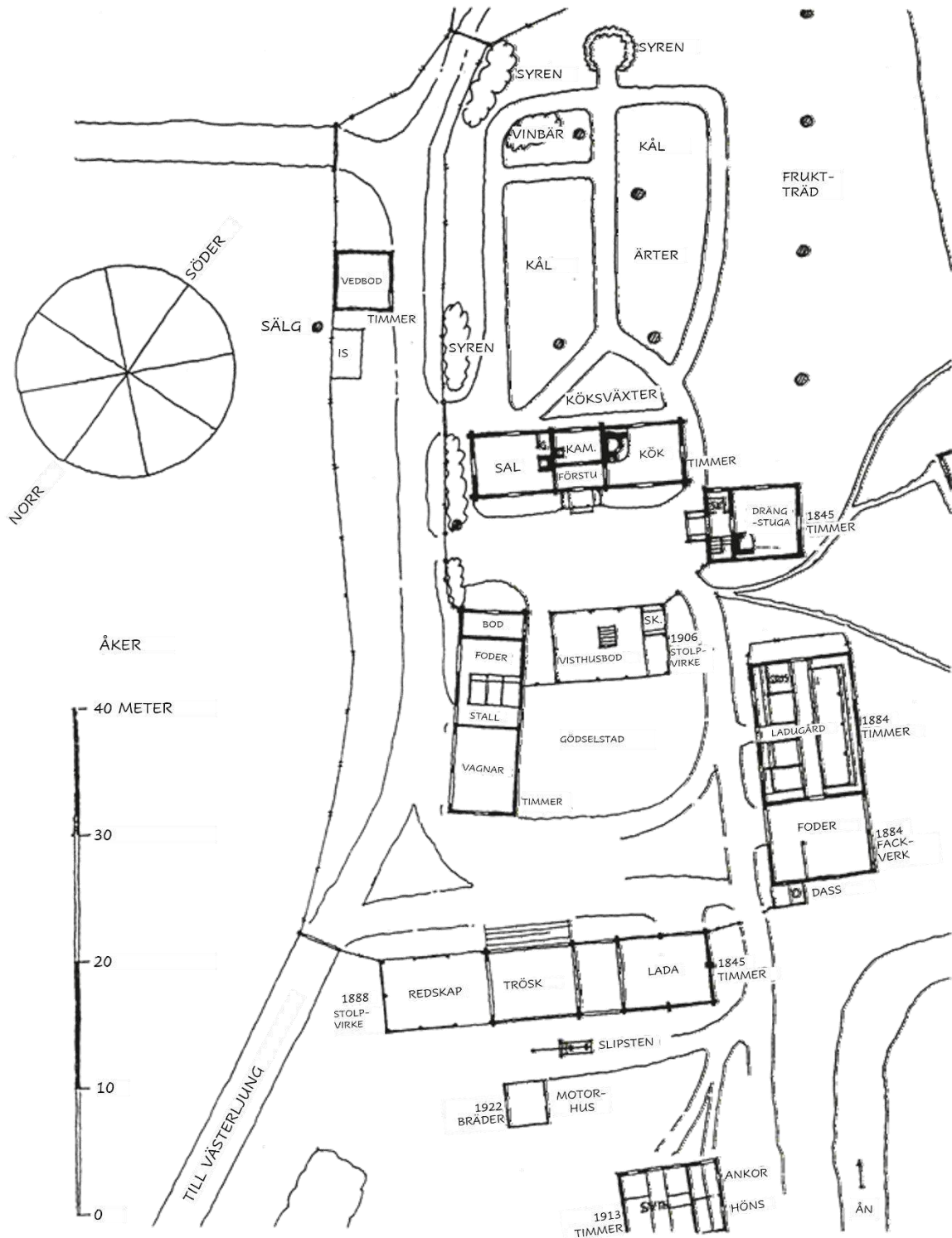
Skalan för den här kartan är enligt kart-linjalens: 1 längdenhet = 100 m.

Om du mäter kart-linjalens längd är den ca 1,2 cm. Då vet du att varje 1,2 cm på kartan är 100 meter i verkligheten.

Mäter du en sträcka på kartan som är 3,6 cm så vet du att sträckan i verkligheten är 300 m eftersom  $3,6/1,2=3$ , och 3 längdenheter som vardera är 100 m blir 300 m totalt.

# Övningsuppgift 1

## Tunsäter 1924



Tunsäter gård i Västerlångs socken 1924. För några byggnader anges byggår och byggnadsmaterial.

**1. Vilken av följande byggnader hade en area på cirka 40 m<sup>2</sup> och var byggd av timmer?**

- A. Drängstugan
- B. Ladugården
- C. Vedboden
- D. Visthusboden

**2. Vilket svarsförslag är korrekt avseende Tunsäter?**

- A. Köksväxterna odlades på gårdens norra del.
- B. Ladan var byggd 1884.
- C. Alla byggnader av timmer var från 1800-talet.
- D. Den senast daterade byggnaden var byggd av bräder.

**3. Hur lång är den beskrivna sträckan?**

Utgå från bostadshusets förstu. Runda husets sydvästra gavel. Följ vägen mellan fruktträd och ärter/kål fram till vinbären och vidare rakt mot bostadshusets sal. Runda därefter husets nordostliga gavel och gå tillbaka till förstun.

- A. 100 meter
- B. 140 meter
- C. 180 meter
- D. 220 meter

## 8 Tabeller och diagram

Tabeller och diagram används vid presentation av resultat från undersökningar eller för att ställa upp faktabaserade uppgifter. Resultatet av en undersökning skrivs först in i en tabell, och kan därefter göras visuellt tydligare med hjälp av diagram.

### Tabeller

Tabeller är ett enkelt sätt att strukturera information med stora mängder data. Man kan givetvis beskriva resultatet av en undersökning i textformat men att ställa upp svaren i en tabell gör oftast svaren enklare att ta till sig.

#### Exempel 1

Vad gäller för hastighetsbegränsningar i kollektivtrafiken i centrala Göteborg?

#### Svar i textformat:

”Innanför Vallgraven gäller 30 km/h för spårvagn och buss. Vid hållplatserna gäller 15 km/h. Utanför Vallgraven gäller 50 km/h och vid hållplats 20 km/h. På Götaälvbron är det max 20 km/h.”

#### Svar i tabell:

Plats	Hastighetsgräns	Hastighetsgräns vid hållplats
Innanför vallgraven	30 km/h	15 km/h
Utanför vallgraven	50 km/h	20 km/h
Götaälvbron	20 km/h	

Även om ovanstående information är ett ganska enkelt exempel kan vi se hur informationen i en tabell blir mer överskådlig och lättare att ta till sig.



## Exempel 2

Har du siffror som du vill jämföra är även tabeller ett bra alternativ här.

Vad blir fraktkostnaden?

### Information i textformat:

"Vid köp under 250 kr är fraktkostnaden 50 kr, mellan 250 kr och 500 kr är fraktkostnaden 30 kr. Handlar du för över 500 kr är det gratis frakt".

### Information i tabell:

Köpesumma	Frakt
Upp till 250 kr	50 kr
250 kr till 500 kr	30 kr
Över 500 kr	Gratis frakt

Kolumnerna i en tabell visar på någon form av jämförelse eller relation. Har du flera meningar i textformat efter mönstret "om, så" kan du med fördel använda dig av en tabell i stället för att skriva informationen i text.

Meningen i exemplet ovan är alltså ett typiskt exempel på mönstret "om, så". Vid "om, så"-fall är det viktigt att "om"-delen bildar den vänstra kolumnen och "så"-delen den högra.

Alltså:

#### Vänster kolumn

**Om** köpesumman är upp till 250 kr

**Om** köpesumman är 250-500 kr

**Om** köpesumman är över 500 kr

#### Höger kolumn

**så** är frakten 50 kr.

**så** är frakten 30 kr.

**så** är frakten gratis.

## Tabellers utseende

Det finns några saker man kan tänka på när man skapar en tabell.

1. Tabellens bredd bör få plats på en och samma sida. Det är svårt att ta till sig information om man behöver skrolla horisontellt eller byta blad för att se vad det står i en kolumn långt ifrån en annan kolumn.
2. Undvik även här allt för långa tabeller. Tanken med tabeller är för att man ska få en god överblick och se hur data förhåller sig till varandra. I en tabell med många rader kan de vara svårt att ta till sig hela innehållet.
3. Även färg och övrig layout på tabellen kan vara till stor hjälp. Eller tvärt om om man gör layout:en fel. Det kan vara lättare att hålla isär rubrikerna och själva datan om man t.ex. gör en fet linje mellan dem, och/eller har en annan bakgrundsfärg på rubrikraden. Det finns många färdiga förslag på nätet gällande tabellers utseende så använd gärna dessa för att se vilken som passar bäst för ditt ändamål.

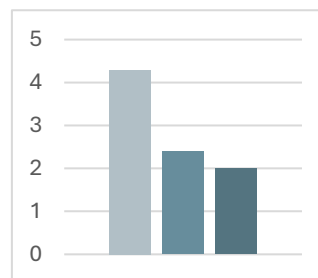
## Diagram

Det finns flertalet olika diagram, men gemensamt för alla diagram är de används för att göra data mer tillgängligt och begripligt för den som vill ta del av resultatet.

De flesta diagram visar *ett (1)* förhållande, d.v.s. presenterar *en fråga per diagram*. Vissa mer avancerade diagram kan visa flertalet frågor i samma diagram, men det är på en mer avancerad nivå och inget vi presenterar i det här kapitlet.

## Stapeldiagram

Stapeldiagram används när du vill presentera något där du vill jämföra olika kategorier mellan varandra.

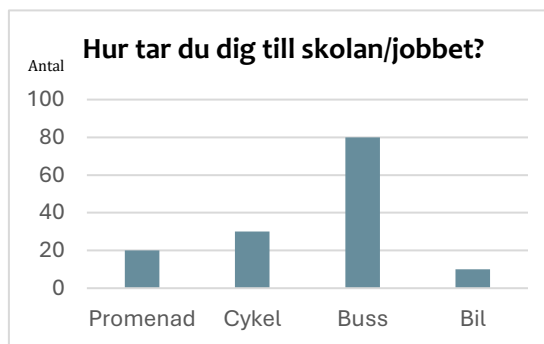


Exempel:

### Hur tar du dig till skolan/jobbet?

Svaren presenteras i en tabell till vänster och ett stapeldiagram till höger.

FÄRDSÄTT	ANTAL
Promenad	20
Cykel	30
Buss	80
Bil	10



Om man bara tittar på tabellen till vänster ser man förvisso tydligt att 20 personer svarat promenad, 30 personer har svarat cykel o.s.v. Men det är inte särskilt tydligt hur svaren förhåller sig till varandra utan att läsa igenom alla alternativ och sen analysera respektive svar. Om en tabell i en undersökning har fler än 10 kategorier blir det genast svårt och omständligt att hålla koll på alla svar för respektive kategori. Då är ett stapeldiagram till stor hjälp.

I stapeldiagrammet jämför man hur staplarna förhåller sig till varandra i höjdlängd. Som man ser i stapeldiagrammet till höger här ovan ser man snabbt att buss är den absolut högsta stapeln och därmed att det är just buss som är det vanligaste sättet att ta sig till skolan/jobbet.

### Cirkeldiagram

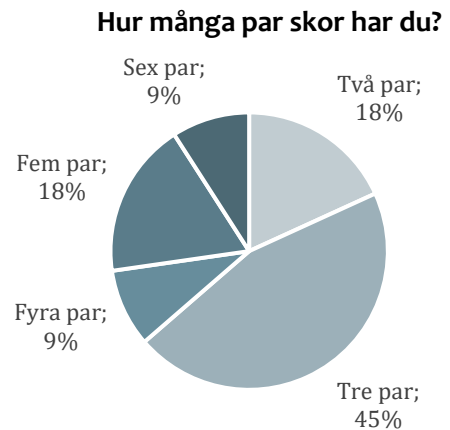
Cirkeldiagram används för att få en bild av hur stor en del är av helheten. Sektorerna i cirkeln motsvarar tillsammans 100 % av resultatet.

Exempel:

#### Hur många par skor har du?

Svaren presenteras i en tabell till vänster och ett cirkeldiagram till höger.

ANTAL PAR	ANTAL	ANDEL
<b>Två par</b>	2	18 %
<b>Tre par</b>	5	45 %
<b>Fyra par</b>	1	9 %
<b>Fem par</b>	2	18 %
<b>Sex par</b>	1	9 %
<b>Summa</b>	<b>11</b>	<b>100 %</b>



I det här exemplet har resultatet av undersökningen kompletterats med kolumnen "andel" som är uträknad efter resultatet lagts in i antalskolumnen.

Andel innebär att se hur stor andel av alla som svarade som har lika många par skor. Andel räknar man ut genom att ta resultatet för en kategori dividerat med totalt antal svarande. För första kategorin där svaret är "Två par" räknar man ut genom att beräkna  $2/11 = 0,18 = 18 \%$

När man tittar på cirkeldiagrammet ser man snabbt vilken del som är störst. I det här fallet är den största tårtbiten de som svarade "Tre par", alltså har de flesta som svarade på undersökningen tre par skor.

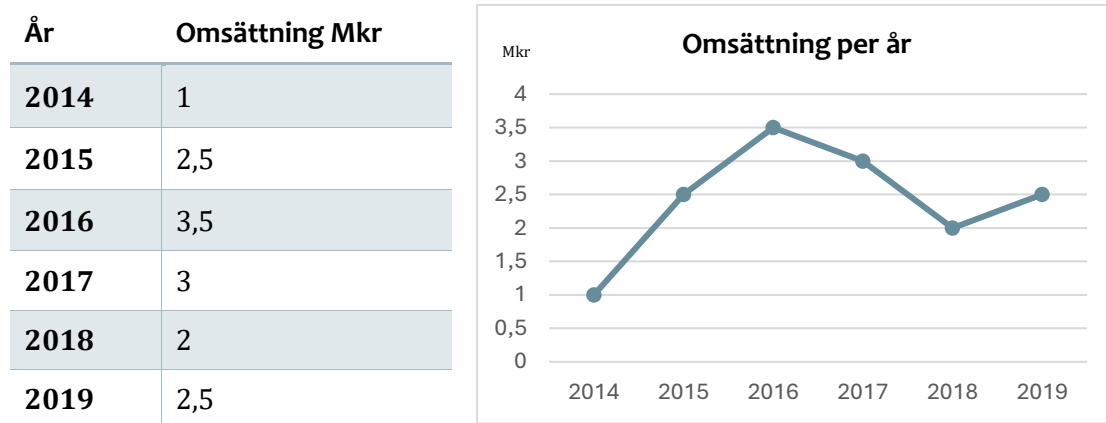
## Linjediagram

Linjediagram används för att visa förändring över tid.

Exempel:

### Vad var omsättningen för *IT-hackarna AB*?

Svaren presenteras i en tabell till vänster och ett linjediagram med brytpunkter till höger.



I detta exempel kan man genom linjediagrammet snabbt få en uppfattning om det gått bättre eller sämre för verksamheten från år till år.

## Del 2 – Svenska

### 9 Ordförståelse och meningskomplettering

Grundläggande svenskkunskaper är a och o när det gäller kommunikation på arbetsplatsen (förutsatt att svenska är det språk som används på arbetsplatsen). För att kunna kommunicera effektivt krävs därför ett brett ordförråd och god ordförståelse. Genom god ordkunskap blir det både enklare för dig att förstå vad andra menar, men även att det blir lättare för dig att uttrycka dig så andra förstår vad du vill säga.

Ett brett ordförråd också är viktigt för språkförståelsen vilket i sin tur är avgörande för läsförstågan.

#### De två språkbruken

Språket är huvudsakligen uppdelat i två olika stilar; den ena stilen är ett *informellt språkbruk* och den andra stilen är ett *formellt språkbruk*. Vilken stil man bör välja beror på sammanhang och situation. T.ex. kan styrande faktorer vara målgrupp, miljö och/eller syftet med kommunikationen.

#### Informellt språkbruk

Till vardags när vi kommunicerar med andra används det som i folkmun kallas "vardagsspråket", eller "talspråket". Det är ett informellt språkbruk där man nödvändigtvis inte behöver förhålla sig till grammatiska regler såsom meningsuppbyggnader m.m. Det kännetecknas av en avslappnad och vardaglig ton samt innehåller i större utsträckning enklare ord, enklare formuleringar, dialekter och slangord.

I de situationer där talspråket används är det vanligt att den man kommunicerar med har möjlighet att ställa följdfrågor löpande. M.a.o. behöver man inte kommunicera det som är vedertaget utan man kan hoppa över det som är underförstått. Skulle det vara så att samtalspartnern inte förstår kan hen meddela detta direkt. T.ex. genom att använda sitt kroppsspråk, ansiktsuttryck eller ställa följdfrågor. Det är enkelt att där och då utveckla det man menar och sen fortsätta kommunikationen.


Vardagsspråket används även i skrift, vanligtvis i t.ex. sms och sociala medier, och då är det även vanligt att man använder sig av förkortningar. Eftersom det i vardagsspråket inte finns regler på samma sätt som när man skriver i formella syften är det okej att hitta på egna sammansatta ord och egna förkortningar.

Några vanliga förkortningar i ett informellt språkbruk är:

vgd?	Vad gör du?
nt mkt	Inte mycket
dd? sj?	Dudå? Själv?
lol	Laughing out loud (skrattar högt)
btw	By the way (Jo, förresten)

Det är heller inte ovanligt att man skriver sin dialekt. "E du go eller?" eller "Du är la go!". (Översatt från göteborgska: "Är du dum i huvudet" eller "Du är härlig/skön person".)

I vardagsspråket är det även okej att använda sig av Emojis (tidigare smile-gubbar). En emoji är en liten ikon man kan infoga för att förtydliga sin text. Det kan vara antingen en känsla eller en förstärkning av något slag.



---

Om man är **glad och nyfiken** och vill fråga vad sin vän gör kan man lägga till en glad emoji

Vad gör du? 😊

---

Om du däremot är arg och vill **ifrågasätta** vad någon gör kan du i stället infoga en arg emoji

Vad gör du? 😡

---

Det finns flera tusentals emojis och det finns hemsidor vars syfte enbart är att vara ett bibliotek för emojis.

### Formellt språkbruk

Ett formellt språkbruk används när sammanhanget eller situationen kräver hög nivå av professionalism, respekt och artighet. Ska en text eller ett tal publiceras/presenteras offentligt ska detta språkbruk alltid användas. Här krävs god ordförståelse, kunskap kring meningsuppbyggnader samt användande av skiljetecken. Man skriver på rikssvenska samt undviker dialektala ord, emojis och slang-uttrycket. Förkortningar är okej men då gäller att man förhåller sig till de allmänna förkortningar som finns.

Exempel på allmänna förkortningar är:

o.s.v.	Och så vidare
t.ex.	Till exempel
d.v.s.	Det vill säga
m.a.o.	Med andra ord
fr.o.m.	Från och med

Det formella språkbruket i skrift används vanligtvis där mottagaren ska kunna ta hjälp av texten för att lära sig något eller ta till sig fakta. T.ex. informationsposter, förfrågningsunderlag, instruktioner, extern mejlkommunikation, texter som publiceras i tidningar/på nätet, m.fl.

När man skriver en text med formellt språkbruk är det nästan synonymt med att den som är tänkt att läsa texten inte ska behöva ställa några följdfrågor. Därför är det av stor vikt att författaren även har förmåga att föreställa sig vem mottagaren och ha denne i åtanke under tiden texten kommer till.

Exempel:

### **Vilken färg har solen?**

1. Solen, som är en celest ljuskälla, exponerar en polykromatisk karaktär. Dess ljusspektrum är genomkorsat av olika våglängder, avslöjar en tonal mångfald där blå och violetta strålar prominent framträder. Atmosfäriska interaktioner yttrar sig i en varierad vit färgskala, förstärkt av gulaktiga och rödaktiga undertoner.
2. Solen verkar vit, men har faktiskt alla regnbågens färger. Atmosfären gör att den kan se gul ut vid solnedgången. Solen är vit på grund av blandningen av alla färger, men atmosfärens effekter ger den olika nyanser under dagen.

Vilket svar passar bäst tycker du?

Faktum är att båda svaren kan vara rätt. Det beror på helt och hållet vem mottagaren är. Om syftet är att skicka texten till en professor i astronomi så kan alternativ 1 läsas utan hinder.

Däremot om en elev på mellanstadiet ska läsa texten passar alternativ 2 mycket bättre. I alternativ 1 kommer sannolikt inte ens första meningen kunna tolkas.

Kort och gott gäller att du anpassar din text för den som ska ta till sig informationen. Poängen med texten är trots allt att du vill bli förstådd.

### **Något mitt emellan**

På arbetsplatsen är det vanligast att ett språkbruk åt det formella hållet är kutym, bortsett från viss kommunikation med kollegorna; T.ex. vid personliga e-postmeddelanden eller internt på arbetsplatsen. Dock brukar man använda sig av båda språkbruken och blanda det formella och informella så det passar mottagaren; Att skriva korrekt svenska men lägga till personliga uttryck och kanske någon emoji är inte ovanligt.

### **Hur vet man vilken språkstil man ska välja?**

Om man inte har någon aning om vilket språkbruk som ska användas är det en god idé att börja med ett språkbruk som mer formellt än vad man tror passar. Från mottagarens sida framstår du då som mer professionell och ansvarstagande än om du skriver genomgående med gemener och använder emojis i stället för skiljetecken. Om mottagaren svarar "Kan du lätta upp texten något?" är det enkelt att justera detta. Eller om du skickar ett mejl och du får ett svar där språkbruket är mindre formellt än det du använt så kan du härma det.

Vet man inte vad som passar kan man helt enkelt observera hur andra gör eller fråga någon som varit på arbetsplatsen en längre tid. Du kan läsa texter som dina kollegor skrivit eller undersöka om det finns någon riktlinje i företaget som beskriver hur anställda ska uttrycka dig.

## Vikten av ett brett ordförråd i skolan

Det är extra viktigt att ha en god ordförståelse när man ska lära sig någonting nytt. Om du behöver avbryta din läsning/inläring i tid och otid för att kolla upp vad ord betyder blir inläringen betydligt svårare och det finns risk att du tappar motivationen.

### Tips för att lära sig nya ord

- Att **läsa texter och lyssna på när andra talar** är enklaste sättet att lära sig nya ord i vardagen.
- Att kontinuerligt **läsa eller lyssna på böcker** är ett bra sätt att hela tiden bibehålla och utveckla sitt ordförråd.
- **Skriv ner samtliga ord du inte förstår** och kolla upp vad de betyder så du till nästa gång får ett bättre läsflyt.
- **"Plugga glosor"**. Se även till att använda dina nya ord när du kommunicerar med andra så du förstår dess fullständiga betydelse.
- **Läsa "svåra texter"**. Det kan vara seriösa tidningar och magasin som fokuserar på ekonomi, naturvetenskap eller forskning. Dessa typer av texter finns att hitta på internet eller i bibliotek.
- När du stött på ett ord som du behövt slå upp; **slå upp synonymer** till ordet. Att förstå ett ord på "flera sätt" gör det lättare att komma ihåg än att bara ta reda på definitionen av ordet.

**Tips!** Vid inläring av nya ord bör du inte begränsa dig till ett enskilt ämne utan hellre välja texter med olika inriktning så du får en bred ordförståelse snarare än spetsordkunskap inom ett enskilt område.

### Metoder att förstå okända ord

När man lär sig nya ämnen och kanske t.o.m. går in i en ny bransch är det inte ovanligt att stöta på fackord. Om du stöter på ett ord som du inte känner till finns flera sätt att ta reda på det:

- **Kontext:** Kanske har du hört ordet i en mening sedan tidigare? Försök återskapa meningen i huvudet och se om meningen i sin helhet kan ge dig ledtrådar till vad ordet betyder.
- **Lånade ord:** Många ord i svenskan är låneord från andra språk. Se om du kan komma på ett ord på engelska (eller något annat språk) som påminner om ordet på svenska och översätt det sen.  
T.ex. Vad betyder konklusion? "Hm, på engelska finns ett ord som är väldigt likt, nämligen conclusion. Det betyder slutsats eller slutledning!"
- **Dela upp ordet:** En del ord, särskilt många komplexa ord kan delas upp i flera ord. Kanske du kan förstå en del av ordet och därmed lista ut vad det betyder. T. ex. Kanske = Kan ske.
- **Googla det:** Använd sökmotorer som Google för att snabbt få en förklaring av ordet.
- **Använd en ordbok:** Använd en fysisk ordbok eller använd en online-ordbok för att slå upp ordet och få dess definition.
- **Fråga någon:** Om du har kollegor eller vänner i närheten, kan du fråga dem om betydelsen av ordet.



### Övningsuppgift

1. Skriv en fullständig mening för respektive uppgift där ordet i uppgiften ska ingå på minst ett ställe:
  - a) Utfall
  - b) Sediment
  - c) Profession
  - d) Producera
  - e) Kapacitet
  - f) Praktisk
  - g) Bilda
  - h) Antaga
  - i) Kondens
  
2. Förklara följande ord:
  - a) Ingående
  - b) Förankra
  - c) Utsätta
  - d) Kraft
  - e) Flöde
  - f) Massa
  - g) Teoretisk
  - h) Konkret
  - i) Existera

## Meningskomplettering

Ett brett ordförråd och kunna många synonymer är även viktigt när man behöver justera texter. Det kan antingen handla om att göra en text mer eller mindre formell. Eller kanske texten har ett bra språkbruk men syftet måste förtydligas eller tonaliteten ändras.

Meningskomplettering handlar om att kunna passa in ord i olika sorters texter och sammanhang och för det krävs en förståelse vad ord betyder.

Exempel:

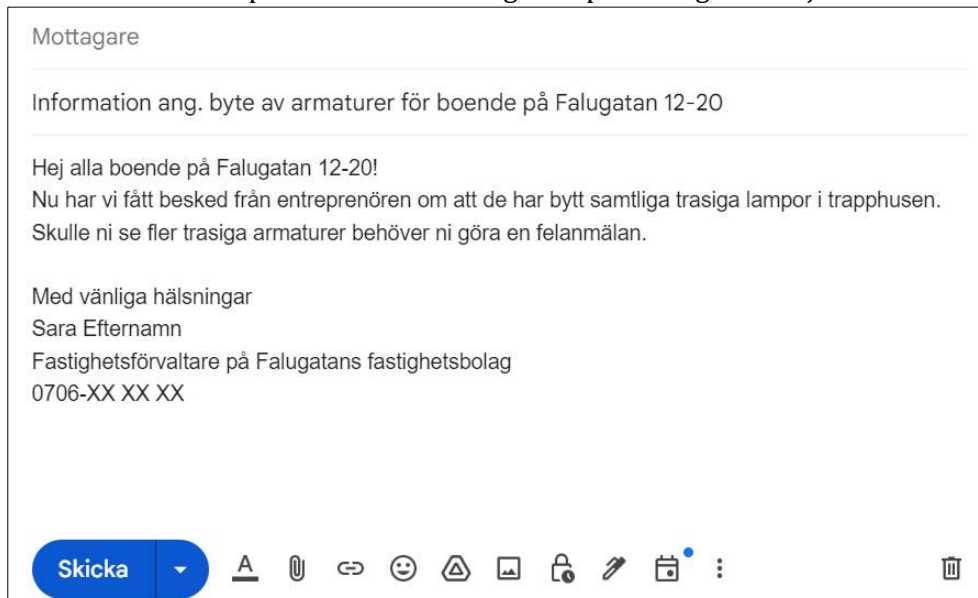
En fastighetsförvaltare på Falugatans fastighetsbolag ska skriva ett mejl till de boende i sitt fastighetsbestånd att projektet: *Bytet av lamparmaturer nu är avslutat*.

Om man använder "vardagsspråket" som språkbruk när man skriver mejl ser det ut så här:



Även om det här mejlet innehåller den mest väsentliga informationen kan mejlet uppfattas suspekt. Som mottagare vet man knappt om mejlet ens är avsett för en själv. Det står heller inget mer än ett förnamn som avsändare så det är svårt att veta vem det är ifrån.

Med ett förbättrat språkbruk och meningskomplettering kan mejlet i stället se ut så här:



Det nedre exemplet uppfattas professionellt tack vare komplett information, bra meningsuppbyggnader samt en mejlsignatur som tydligt visar att mejlet kommer från någon som jobbar hos hyresvärderna.

### Övningsuppgift

Välj det alternativ som passar i luckan. Där meningen innehåller två luckor så ska båda svaren i alternativet passa in.

#### Tips

- *Läs först hela meningen utan att kolla på alternativen. På så sätt har du möjlighet att förstå innehållet och gissa rätt svar innan du ser svarsalternativen.*
  - *När du valt ditt alternativ läs igenom meningen med ditt valda svarsalternativ och se så meningen flyter och låter rimlig.*
3. Diskbråck i ländryggen kan påverka nervrötterna i ryggen och ge utstrålade smärta i benet, även kallad \_\_\_\_.
    - a. artros
    - b. ischias
    - c. skolios
    - d. whiplash
  4. Albumet innehåller popmusik i gränlandet mellan ringsignaler och pojkbandspop, med en hållbarhet sämre än en liter mjölk. Man kan nynna varenda refräng efter två genomlyssningar, och man är \_\_\_\_ på dem efter fem.
    - a. såld
    - b. utled
    - c. insnöad
    - d. ledsam
  5. Det troliga är att valen \_\_\_\_ individernas talanger, det vill säga de väljer den utbildning som passar dem bäst.
    - a. kompletterar
    - b. framhäver
    - c. avspeglar
    - d. förstärker
  6. Eftersom oxytocinsystemet i grunden är ett däggdjurssystem innebär det stora fördelar att forska om djur och människor \_\_\_\_\_. Alla däggdjur reagerar precis likadant. Stryker man en råtta på magen cirka fyrtio gånger per minut sjunker blodtrycket och \_\_\_\_\_ stresshormon minskar.
    - a. alternativt – procenten
    - b. experimentellt – graden
    - c. selektivt – andelen
    - d. parallellt – halten
  7. Att vara hemarbetare kan verka soft, en Solsidetillvaro med touch av Maria Montazamis liv med tofs-shopping och vänninnepartyn. (Även om hon \_\_\_\_ är en business-kvinna, som slår mynt av bilden av sig själv.)
    - a. ad hoc
    - b. inkognito
    - c. in spe
    - d. de facto

8. Det enda sättet för mig som barn att kunna bryta in i samtal var att säga något kul. Det började med att jag en gång oavsiktligt sade något \_\_\_ som fick samtalet att tystna. Från den stunden insåg jag att skämt gav mig \_\_\_ de vuxnas konversation.
- spontant – förtroende för
  - ironiskt – inblick i
  - dråpligt – tillträde till
  - lakoniskt – övertag över
9. Kemisk intolerans innebär att man får kraftiga symptom av vardagliga lukter som andra inte reagerar på. \_\_\_ liknar astma och allergi, men de kemiskt intoleranta \_\_\_ inte med ökad histaminfrisättning.
- Diagnosen – utsöndras
  - Förloppet – hotas
  - Symptomen – insjuknar
  - Åkomman – reagerar
10. Stora delar av världens befolkning är analfabeter och \_\_\_ en skriftlig berättartradition. Romankonsten är ju en relativ nymodighet jämfört med det \_\_\_ berättandet och musiken.
- avvarar – traderade
  - saknar – muntliga
  - förmedlar – traditionella
  - behöver – uråldriga
11. Floder som rinner över en slätt har en \_\_\_ att anta ett \_\_\_ lopp i meanderbågar. Skarpa krökar kan \_\_\_ till korvsjöar.
- förmåga – krökt – strömma in
  - benägenhet – slingrande – snöras av
  - tendens – förnyat – mynna ut
  - fördel av – strömt – skäras av
12. Träning spelar roll för skelettets uppbyggnad. Minst en halvtimmes fysisk aktivitet 2–3 gånger i veckan kan ge bättre bentäthet, och för kvinnor som har passerat klimakteriet finns \_\_\_ att fysisk träning kan förhindra \_\_\_.
- argument för – inaktivitet
  - reaktioner på – benskörhet
  - belägg för – frakturer
  - resultat på – överansträngning

## 10 Läsförståelse

Oavsett vilket yrke man har är läsförståelse en viktig färdighet. Från att läsa och förstå arbetsrelaterade dokument till att kommunicera med kollegor och kunder är det en viktig del av de flesta jobb. Precis som när man skapar texter bör man även för god läsförståelse sikta på att kontinuerligt utveckla sitt ordförråd, detta då det är ett av verktygen för att effektivt kunna analysera texter.

Att redan ha ett brett ordförråd och läsa många böcker, artiklar och andra texter är dock inte synonymt med att ha god läsförståelse. För god läsförståelse måste man även kunna tillämpa läsförståelsestrategier; medvetet eller omedvetet.

En person med god läsförståelse använder strategierna omedvetet medan en person med svag läsförståelse kan behöva ta hjälp av stödfrågor för att få svar på frågor såsom

- vilken typ av text är det?
- till vem texten är skriven?
- hur ska texten läsas?

### Läsförståelsestrategier

Läsförståelse handlar om att kunna analysera en text och förstå syftet med texten. För att få hjälp med att bena ut syften finns det olika läsförståelsestrategier. Några strategier som är särskilt viktiga dessa:

1. **Att göra inferenser** eller att "läsa mellan raderna" innebär att man kan kopplar ihop olika delar/ledtrådar av texten och kopplar samman detta till en förståelse eller en inre bild. Vid en inferens tar man även med sådant man känner till sedan tidigare och som finns i ditt minne. Inferens betyder "slutledning under osäkerhet".
2. **Att övervaka den egna läsförståelsen** gör man genom att ställa förväntningar på texten. T.ex. kanske du läser ett stycke med rubriken "Varför är tomater röda?". När du läst klart stycket; har du förstått texten och därmed fått svar på frågan?
3. **En känsla för berättelsestrukturen** är viktigt då man t.ex. genom olika stilar på rubricering kan ta del av om stycket är
  - en huvudrubrik,
  - en områdesrubrik
  - en underrubrik.

En huvudrubrik presenterar nästkommande text, vad ska detta textstycke handla om? Ett stycke med en områdesrubrik har syftet att generellt beskriva ett område av information, medan en underrubriks innehåll är med nischat/detaljerat.

### Exempel inferens

När man gör en inferens är det viktigt att inte endast ställa sig frågor om direkt fakta från texten.

”Kalle satt på trappan och grät. Bredvid honom låg den nya cykeln med vridet styre.”

I stället för att fråga var Kalle satt, eller vad han gjorde kan man t.ex. fråga ”Varför grät Kalle?”. Texten ovan ger ingen direkt förklaring till detta, men den som lärt sig göra inferenser kan göra olika gissningar om varför Kalle gråter.

### Svag läsförståelse

En person med svag läsförståelse vet inte alltid om det. Den personen märker inte om hen har förstått det hen läst eller inte. En svag läsare planerar inte sin läsning, har svårt att återberätta innehållet med egna ord och kan inte skilja på vad som är viktigt eller oviktigt i en text. Hen ställer heller aldrig några frågor till texten eller använder några andra läsförståelsestrategier. Dessutom har hen svårt att koppla ihop det hen redan vet med det hen precis läst för att göra en inferens.

### Träna din läsförståelse

Läsförståelse utvecklas inte automatiskt genom läsning utan behöver aktivt kompletteras med systematiska, medvetna och direkta strategier. Om man läser mycket och har bra läsflyt är det lätt att tro att man har god läsförståelse, men det kan helt enkelt handla om att man fastnat i en bekvämlighetsnivå och inte längre utmanar och utvecklar sig.

Däremot om man har en svag läsförståelse blir man inte enbart hjälpt av att läsa ”svåra texter”. Man behöver i stället lägga sig på en nivå där man har bra läsflyt och ta hjälp av en strategi för att förstå texten. Det viktigaste är att öva!

Exempel på övningar på för att träna upp läsförståelsen

- **Aktivera bakgrundkunskapen**  
Titta på bokens pärm, rubrik, innehållsförteckning m.m. och försök förutsäga textens innehåll på förhand
- **Planera och övervaka läsningen**  
Sätt ett mål för läsningen, pausa för analys om texten, följ upp läsningen genom att ställa frågor om texten (se lathund på nästa sida)
- **Identifiera huvudbudskapet i en text samt sortera bort oviktig information**  
Analysera; genom att träna understrykningar, anteckningar och mindmap på basis av texten
- **Ta ställning till hur den nya kunskapen kan användas i fortsättningen**  
Vid vilka tillfällen/situationer kan det vara bra att ha lärt dig det du precis läst?
- **Öva!**  
Ta del av särskilt framtagna övningsuppgifter för förbättrad läsförståelse (finns t.ex. på internet) där övningsfrågor finns med som en övningsuppgift.

## Lathund: Läsförståelsestrategi

När man ska analysera en text kan man ta hjälp av frågor att ställa sig med texten i åtanke. Efter en tid behöver man längre inte ha lathunden utan målet är att detta sker spontant.

### Syfte och genre

Före läsningen	Under läsningen	Efter läsningen
Vilken typ av text är det?	Är texten lätt att följa?	Vad tror du är bakgrunden till texten? Varifrån tror du författaren fick idén till den här texten?
Vem tror du författaren vill ska läsa den här texten?	Känner du igen något av innehållet i texten? Är ämnet bekant?	Vad tror du författaren vill säga med sin text?
Hur ska vi läsa den här texten?	Är det något du hakar upp dig på?	Gick det snabbt eller långsamt att läsa? Var den lätt eller svår?

### Innehåll

Före läsningen	Under läsningen	Efter läsningen
Vad tror du texten handlar om?	Finns det något du reagerar på speciellt i handlingen? Kan man spekulera och förutsäga förloppet?	Reflektera. Vad handlade texten om? Var det som du trodde? Vad tycker du om handlingen?
Vilka personer handlar det om?	Ställ hypotetiska frågor till karaktärerna. Är det något särskilt du undrar?	Vem var den styrande personen i texten? Hur agerade/kände/tyckte hen?
Hur är språket och orden?	Markera och notera ord du inte förstår. Slå upp dessa, se om det låser upp nytt innehåll i texten	

### Textstruktur

Före läsningen	Under läsningen	Efter läsningen
Hur är texten uppbyggd? Finns innehållsförteckning?	Hur går det att läsa texten?	Vilken del av texten tyckte du bäst/sämst om?
Vad säger rubriken? Vad säger inledningen om texten?		Hjälpte rubrikerna och eventuella stycken till att göra händelseförloppet i texten tydlig?
Finns illustrationer? Vad säger dom om texten?		Kompletterade illustrationerna texten?
Finns det sammanfattningar eller nyckelord som kan guida dig?		Hade du någon nytta av marginalerna.
	Anteckna egna nyckelord och sammanfattningar i marginalen.	Hjälper dina anteckningar dig att förstå helheten av texten?

#### **Tips**

Testa att använda lathunden på tidningsartiklar och andra texter som du stöter på i vardagen.

## Övningsuppgift 1

**KRÖNIKA | Översiktsplanerna har inte lyckats analysera och ta höjd för den kraftiga tillväxten som svenska städer har idag. Det leder till brister som saknad infrastruktur och underskott av skolverksamheter. Dessutom är underhållet av äldre fastigheter kraftigt eftersatt. Det menar Jan Jörnmark, docent i ekonomisk historia.**

För fyra år sedan drogs jag oväntat in i politiken, vilket sedan hastigt ledde till att jag blev ledamot i både byggnadsnämnden och allmännyttans styrelse här i Göteborg. För en person som aldrig ens tänkt tanken på att gå med i ett politiskt parti var det en ganska omvälvande uppgift. Det har varit oerhört lärorikt och tvingat mig till att reflektera kring hur städer växer på ett annat sätt än jag gjort tidigare.

När jag skulle vara med på mitt första byggnadsnämndsmöte tänkte jag att "jag får väl åka ut och titta på var det ska byggas". Så jag hyrde en bil och körde ut till ett område på Hisingen där jag – trots att jag bott fyrtio år i Göteborg – aldrig tidigare varit. Det som mötte mig i Hjuvik kom därför som en smärre chock: det som fanns därute var ett större område som i stort sett hade byggts de sista 20–25 åren.

Jag har därefter systematiserat resorna före varje byggnadsnämnd. Eftersom Göteborg är en utbredd kommun innebär det att jag kör cirka 5–10 mil före varje sammanträde. Det har gett mig chansen att systematisera intrycken, när jag upptäckt att det vimlar av liknande stadsdelar: sedan 1990 har Hjuvik mer än fördubblats, Nolered ökat med 50 procent och Björlanda i det närmaste tredubblats. I sydväst ser det ut på ett liknande sätt och både Hovås och Billdal har växt med siffror kring 50 procent.

**Länsstyrelser och domstolar driver idag PBL:s anpassningskrav mycket hårdare än tidigare.**

Alltihop är en effekt av den förändrade bostadspolitiken efter avsubventioneringen 1993: när subventionerna togs bort blev byggandet orienterat mot de områden där efterfrågan var starkast. Att det lett till ett tryck in mot centrum i de större städerna har varit välkänt, men det fenomen som man kan se runtom Göteborg är mer okänt. Det som syns i områden som Hjuvik, Björlanda med flera är att efterfrågan också är oerhört stark i äldre villa- och sommarstugeområden med havsnära lägen.

Men precis som det under de sista tio åren dykt upp fler och fler hinder för förtätning i centrala städer växer hindren för förtätning i villaområden: länsstyrelser och domstolar driver idag PBL:s anpassningskrav mycket hårdare än tidigare. Inte minst är det en effekt av de stegrade värdena: när priset på en normalvilla i de mest attraktiva områdena stigit från 3–4 till 10–15 miljoner har de värden många anser att det är värt att försöka skydda från nya grannar ökat drastiskt.

**Utvecklingen kräver en ny politik.**

Lyfter man sedan blicken ser man att tillväxten i Göteborg, Stockholm och andra större städer varit starkare sedan början av 1990-talet än den var under de så kallade "rekordåren". Göteborg har till exempel växt med 150 000 invånare de senaste 30 åren, vilket kan jämföras med en total ökning på 60 000 mellan 1950 och 1990. Siffrorna för andra städer ser ut på liknande sätt.



Men i motsats till hur det var tidigare finns det inga sammanhållna planer för utvecklingen. Några jättelika systematiska utvecklingar av Angered, Tensta eller Rosengårdsliknande områden existerar inte. Sett i det perspektivet är snarare de senaste tre decenniernas stadsbyggande synnerligen lyckat, för vi har trots allt klarat av att bygga på ett sådant sätt att dessa unikt snabbväxande städer hållit ihop och fortsatt vara socialt och ekonomiskt acceptabla att bo i.

Men för att det stadsbyggandet ska kunna fortsätta på ett acceptabelt sätt krävs nu flera saker. På nationell nivå behövs ett genomgripande arbete med att reformera och effektivisera planlagstiftningen och dess förhållande till riksintressen av olika slag. De konflikter som låg latent i lagsystemen var länge ganska osynliga, men de sista 10–15 åren har det blivit uppenbart att snart sagt all fortsatt förtätning är behäftad med mycket stora problem. Samtidigt håller det också på att ta slut på de nedlagda varvs- och industriområden som tidigare kunde fungera som räddningsplankor för stadsbyggandet.

### **När PBL skapades blev översiktsplanen den fula ankungen, som ingen egentligen brydde sig om.**

På kommunal nivå krävs också en mycket stor skärpning av översiktsplaneringen. När PBL skapades blev översiktsplanen den fula ankungen, som ingen egentligen brydde sig om. Översiktsplanen fick ingen formell legal plats, vilket gjorde att all utveckling under den dynamiska tiden efter 1990 i praktiken styrdes av detaljplanerna. Samtidigt som klagomålen på "frimärksplanering" nästan omedelbart hördes, blev översiktsplanerna standardiserade önskelistor om "hållbarhet", "jämfästad stad" och liknande fraser som sedan saknade praktisk betydelse när detaljplanerna rullade vidare.

Eftersom översiktsplanerna misslyckats med att analysera och ta höjd för den kraftiga tillväxten har vi idag svenska städer som i många fall uppvisar allvarliga brister vad gäller på infrastrukturutbyggnad och som har motsvarande underskott för skolverksamheter. Ett annat problem är att den snabba utbyggnaden lett till att de äldre fastigheterna och verksamheterna eftersatts. Underhållsskulden är betydlig, vilket skapat ett stort utrymme för de nya välfärdsföretagen.

Inget av det jag skrivit här är några nyheter, men det som nästan alltid saknas är helhetsbilden av det som hänt. Lyfter man blicken dit inser man också hur stort reformbehovet är idag. Och som jag ser det skapar det en helt ny kravbild på våra politiker, både på kommun- och riksnivå.

### **Frågor**

1. Vad anser Jan Jörnmark är orsaken till att det finns ett underskott av skolverksamheter och avsaknad av infrastruktur?
2. Hur beskriver Jan sin upplevelse av att gå med i ett politiskt parti?
3. Vad menar Jan är konsekvenserna av avsubventionen 1993?
4. a) Vilket eller vilka är det huvudsakliga problemen Jan vill belysa i sin krönika?  
b) Presenterar han några lösningar på de problem han lyfter

## Övningsuppgift 2

### Ursäktens betydelse

Korruption, fusk med livsmedel och tvivelaktig marknadsföring i utlandet. Företagen har gott om saker att be allmänheten om förlåtelse för. Men skälen att göra det är inte bara moraliska. Att utstå kritik och förlöjligande genom att be om ursäkt kan gynna företagen ekonomiskt. Om det gör ont. Det framgår av forskningsresultat som sammanställts i ett blogginlägg från Centre for Economic Policy Research. Bland annat har börsbolag som ursäktar dåliga resultat ett högre börsvärde ett år senare, och läkare som ber om ursäkt för vårdmissar undgår i större utsträckning att bli stämda. Svenska bolag har dock en del att jobba med när det gäller att kommunicera sitt ansvar för skandalerna de är inblandade i, enligt Peter Norberg, forskare vid Handelshögskolan i Stockholm. – Många ursäkter vi får av företagen i dag är inte vatten värda. Det är endast om ursäkten är smärtsam som den har någon betydelse. Är det bara någon vältalig kommunikatör som sitter och ler i en vadderad tv-soffa så gör det inte särskilt ont, det blir bara marknadsföring. En del i den problembild Norberg beskriver är att de krishanterande svenska bolagen följt amerikanska exempel – att antingen tuga ihjäl kritiken eller lägga sig platta inför den.

Det är ohederligt tycker han, eftersom man då undviker att förklara företagets, kanske i grunden legitima, skäl att handla som det har gjort. I verksamheten tvingas storföretagen hela tiden göra avvägningar. Det kan till exempel, som när Ikea kritiserades för att ha retuscherat bort kvinnor från den saudiarabiska versionen av sin katalog, handla om att vikta intresset av jämställdhet mot behovet av anpassning till marknaden i ett kontroversiellt land som man försöker etablera sig i. Ikeas hantering av katalogen var ett exempel på när företag lagt sig platta för kritiker, enligt Norberg. Ett annat är köttskandalerna i livsmedelsindustrin. – Ica vill inte prata om de snäva marginalerna och att alla som driver en Ica Maxi-butik vill ha en Ferrari. Man vill upprätthålla ett sken av att problemen är olyckshändelser som inte kommer att upprepas. Att omedelbart be om ursäkt när man kritiserats kan vara ett sätt att snabbt tysta kritikerna och sätta stopp för ett mediedrev. En sådan ursäkt sitter inte tillräckligt långt inne för att bli smärtsam för ursäktaren. För det krävs snarare att företaget går med på att betala skadestånd eller öppna upp för granskning av sina snedsteg, enligt Norberg.

*Sebastian Orre*

#### 1. Vad bör kritiserade företag undvika, enligt Peter Norbergs resonemang?

- A. Att öka insynen i företaget.
- B. Att direkt ge kritikerna rätt.
- C. Att redovisa sina motiv.
- D. Att utlova ekonomisk kompensation.

#### 2. Vad framhåller texten som orsak till de så kallade köttskandalerna?

- A. Företagens risktagande i jakten på lönsamhet.
- B. Företagens underskattning av kundernas värderingar och krav.
- C. Företagens tilltro till amerikanska metoder för krishantering.
- D. Företagens rutiner vid hantering av oförutsedda händelser.

## Facit

### KAPITEL 2a

#### Formler och ekvationer, sidan 13

1. a)  $x = 6$  b)  $x = 20$  c)  $x = 10$
2. a)  $x = 27$  b)  $x = 11$  c)  $x = 29$
3. a)  $x = 21$  b)  $x = 65$  c)  $x = 40$
4. a)  $x = 4$  b)  $x = 5$  c)  $x = 2,5$
5. a)  $x = 18$  b)  $x = 80$  c)  $x = 15$
6. a)  $x = 77$  b)  $x = 100$  c)  $x = 4$
7. a)  $x = 1,5$  b)  $x = 120$  c)  $x = 119$
8. a)  $x = 99$  b)  $x = 13,5$  c)  $x = 23$
9. a)  $x = 4$  b)  $x = 75$  c)  $x = 0$
10. a)  $x = 160$  b)  $x = 7,5$  c)  $x = 2,5$
11. a)  $x = 7$  b)  $x = 5$  c)  $x = 4$
12. a)  $x = 10$  b)  $x = 6$  c)  $x = 200$
13. a)  $x = 7,5$  b)  $x = 1$  c)  $x = 2,4$
14. a)  $x = 15$  b)  $x = 6$
15. a)  $x = 3$  b)  $x = 12$
16. a)  $x = 40$  b)  $x = 4$
17. a) 7 b) 14
18. a)  $x = -4$  b)  $x = 0,5$
19. a)  $x = -1$  b)  $x = -2$
20. a)  $x = -3,5$  b)  $x = 0$
21. a)  $x = 2,5$  b)  $x = 0,2$
22. a)  $x = 3$  b)  $x = 2$
23. a)  $x = 6$  b)  $x = 2$
24. a)  $x = -20$  b)  $x = 4$
25. a)  $x = 4,5$  b)  $x = 1,5$
26. a)  $x = 2$  b)  $x = 0,5$
27. a)  $x = 0$  b)  $x = 1$
28. a) -25 b) 11
29. A, B och D

### KAPITEL 2b

#### Massa, densitet och tryck, sidan 15

1.  $V = 3,75 \text{ m}^3$   
 $m = 3,75 \times 2\,400 = 9\,000 \text{ kg}$
2.  $V = 5,5 \text{ m}^3$   
 $m = 5,5 \times 1\,500 = 8\,250 \text{ kg}$
3. Finns massor av svar!  
Antag t.ex. att diametern är 1 m, och höjden är 15 m.

$$V = 11,78 \text{ m}^3$$

$$m = 11,78 \times 500 = 5\,890 \text{ kg}$$

4. Total kraft = 9 613,8 N  
Tryck = 2 403,45 N/m<sup>2</sup>
5. a) 53 9550 N b) 1 542 N/m<sup>2</sup>

### KAPITEL 3

#### Procent 18-19

1. 96 %
2. a)  $\frac{3}{5}$  b) 0,6 c) 60 %
3. a)  $\frac{3}{8}$  b) 0,375 c) 37,5 %
4. a) 62,5 % b) 28,1 % c) 58,6 % d) 83,3 %
5. a) 50 % b) 20 %
6. 40 %
7. a) 42 % b) 3 % c) 30 % d) 30,5 %
8. a) 0,65 b) 0,07 c) 0,70 d) 0,703
9. a)  $\frac{1}{4}$  b) 0,25 c) 25 %
10. I a)  $\frac{9}{25}$  b) 0,36 c) 36 %  
II a)  $\frac{6}{16}$  b) 0,375 c) 37,5 %
11. Hur många svar som helst!
12. a) 87,5 % b) 41,7 % c) 13,6 % d) 47,2 %
13. Persboda  $\frac{9}{75} = 12 \%$  Störst!  
Västerstad  $\frac{165}{1\,500} = 11 \%$

#### Procent, promille och ppm, sidan 21-22

1. a) 0,003 b) 0,015 2 c) 0,000 002  
d) 0,000 025
2. a)  $1,5 \text{ ‰}$  av 42 000 =  $0,0015 \times 42\,000 = 63$   
 $35 \text{ ppm}$  av 60 000 =  $0,000035 \times 60\,000 = 2,1$
3. Antalet födda var 12 ‰ av befolkningen.
4. 2 ppm
5. a) 7 ‰ b) 1,6 ‰ c) 12 ‰ d) 0,2 ‰
6. a) 6 ‰ b) 1,5 ‰
7. a) 0,008 b) 360 kr
8. a) 0,003 5 b) 168 kr
9. a) 190 ppm b) 31 ppm
10. a) 5 ppm b) 20 ppm
11. a) 0,000 025 b) 2 kg
12. 25 800

13. 4 ‰
14. 12 ppm
15. 0,92 g
16. 0,36 g
17. a) 1 promilleenhet b) 80 ‰

**Procent och procentenheter, sidan 26**

1. a) 5 % b) 3,5 %
2. a) Ökat med 3 procentenheter.  
b) Minskat med 1,5 procentenheter.
3. a) 2 procentenheter b) 25 %
4. a) 13 % b) 10 %
5. 5 procentenheter
6. a) 5 procentenheter b) 0,20 c) 20 %
7. a) 3 procentenheter b) 30 %
8. a) 1 procentenhet b) 20 %
9. a) 1 % b) 10 %
10. TV-12, eftersom det sänks med 3 % från ursprungliga 30 %, d.v.s.  $\frac{3}{30} = 10\%$

**Procent, sidan 28**

1. a) 15 kr b) 10 %
2. a) 42 kr b) 392 kr
3. 40 %
4. 72 kg
5. a) 30 cm b) 5 %
6. a) 120 kr b) 280 kr
7. 20 %
8. a) 51 500 b) 49 000
9. a) 25 % b) 20 %
10. 37 800 kr
11. 3 105 kr
12. a) T.ex.: Ett par jeans kostade 620 kr, men nu har de höjt priset med 15 %. Vad är det nya priset?  
b) T.ex.: CD-spelaren kostade 800 kr men jag prutade ner priset med 5 %. Vad fick jag betala?

**Procent, sidan 30-31**

1. a) 20 % b) 60 %
2. a) 7 kr b) 616 kr
3. a) 500 b) 45 000 m
4. a) 12 % b) 1 750 kr c) 300

5. a) 340 km b) 400 c) 4,5 %
6. a) 72 kr b) 288 kr c) 25 %
7. a) 60 % b) 25 % c) 20 % d) 12 %
8. a) 0,12 b)  $0,12 \times 750$  c) 90 kr
9. a) 24 b) 60 c) 510 d) 18
10. a) 150 b) 15 000 c) 15 000
11. a) 2 000 b) 500 c) 150
12. a) 20 % b) 8 %
13. a) 4,5 miljoner b) 18 m
14. a) 20 % b) 300 c) 75
15. a) 666 b) 25 % c) 700
16. a) 35 kr b) 72 mm c) 24,8 m d) 165 liter
17. a) 20,4 % b) 80,6 %
18. a) 12 000 m b) 384 000 kr
19. a) 60,5 % b) 504 km c) 5 000 kr
20. Han glömmer 5 hundradelar.

21. a)  $\frac{75}{76}$  eftersom det bara fattas  $\frac{1}{76}$  till en hel, d.v.s. 100 %

b)  $\frac{26}{51}$  eftersom det är ungefär hälften, d.v.s. 50 %

c)  $\frac{11}{42}$  eftersom det är nära  $\frac{1}{4}$ , d.v.s. 25 %

d)  $\frac{3}{31}$  som nästan är  $\frac{1}{10}$ , d.v.s. 10 %

**KAPITEL 4**

**Area, sidan 36**

1. Diametern eller radien
2.  $\text{dm}^2$
3. Cirkeln:  $50,3 \text{ m}^2$ , kvadraten:  $50,41 \text{ m}^2$ .  
Svar: Cirkeln
4.  $1,904 \text{ m}^2$

**Volym, sidan 38**

1.  $3,08 \text{ m}^3 (=3080 \text{ liter})$
2. a)  $10 \text{ dm}^3$  b) 100 gånger
3. a) 2 ml b) 125 st
4. a) cylinder b) rätblock c) kon
5. a)  $12,48 \text{ m}^3$  b)  $4,16 \text{ m}^3$  c)  $12,48 \text{ m}^3$

## KAPITEL 5

### Trigonometri, sidan 43-47

- a)  $35/61 \approx 0,57$   
b)  $50/61 \approx 0,82$   
c)  $35/50 \approx 0,70$
- a) 0,57   b) 0,82   c) 0,70
- a)  $\tan A = 15/8 \approx 1,88$ ,  $\tan B = 8/15 \approx 0,53$   
b)  $\tan A = 20/21 \approx 0,95$ ,  $\tan B = 21/20 \approx 1,05$
- a)  $\sin v = 9/11 \approx 0,82$ ,  $\cos v = 6/11 \approx 0,55$   
b)  $\sin v = 16/34 \approx 0,47$ ,  $\cos v = 30/34 \approx 0,88$
- a) 58 m   b) 54 m
- a) 41 cm   b) 43 cm
- a)  $40^\circ$    b)  $46^\circ$
- a)  $28^\circ$    b)  $53^\circ$
- 30 m (30,1)
- 360 m (358)
- $16^\circ$
- $14^\circ$  (14,3)
- 1,42 m
- 22 m
- 1,9 respektive 3,9 m
- a)  $35/61 \approx 0,57$    b)  $50/61 \approx 0,82$   
c)  $35/50 \approx 0,70$
- a) 0,574   b) 0,819   c) 0,700
- 15,3 m
- 283 m
- 15 m
- a)  $34,0^\circ$    b)  $42,5^\circ$
- a)  $34,4^\circ$    b)  $66,0^\circ$
- $22,5^\circ$
- a)  $53^\circ$    b)  $58^\circ$
- a)  $32^\circ$    b)  $39^\circ$

## KAPITEL 6

### Lutning, sidan 49

1.  $\tan(27) = \frac{5,1}{x} \Leftrightarrow 0,510 \approx \frac{5,1}{x} \Leftrightarrow x \times 0,510 \approx 5,1$

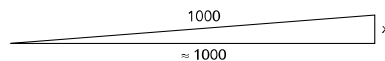
$$x \approx \frac{5,1}{0,510} \Leftrightarrow x \approx 10$$

Lutningsprocenten är då ungefär

$$5,1/10 \approx 0,51 = 51 \%$$

2. a) Eftersom i trianglar med små vinklar den långa kateten och hypotenusan är ungefär lika

långa får vi här att den långa kateten är ungefär 1 000 m.



$$\frac{x}{1000} \approx 0,08 \Leftrightarrow x \approx 0,08 \times 1000$$

$$x \approx 80 \text{ meter}$$

$$\tan(v) = \frac{80}{1000} \Leftrightarrow \tan(v) = 0,08$$

b)

$$v = \tan^{-1}(0,08) \Leftrightarrow v \approx 4,5^\circ$$

## KAPITEL 7

### Kartor, sidan 55

- a
- d
- a

## DEL 2 – Svenska

### Kapitel 9

#### Ordförståelse och meningskomplettering, sidan 65

1.
  - a) **Utfall** = häftigt angrepp eller resultat.  
*Utfallet av experimentet var oväntat positivt.*
  - b) **Sediment** = Avlagring, slam.  
*Sedimentet på botten av sjön visade tydliga lager av historisk avlagring.*
  - c) **Profession** = yrke, fack.  
*Hennes profession som advokat kräver både skicklighet och etik.*
  - d) **Producera** = Tillverka, framställa.  
*Idag ska vi producera hundra exemplar av den nya produktserien.*
  - e) **Kapacitet** = Prestationsförmåga, volym.  
*Företagets nya anläggning har en imponerande kapacitet på 100 000 enheter per månad.*
  - f) **Praktisk** = Saklig eller händig eller lämplig/nyttig.  
*Att lära sig grundläggande första hjälpen är en praktisk färdighet som alla borde ha.*
  - g) **Bilda** = skapa/forma eller utgöra eller utveckla.  
*Varför är det viktigt att kunna bilda familj med någon av samma kön?*
  - h) **Antaga** = anställa, godkänna.  
*Vad som fick honom att antaga mig som andrestyrman förstod jag inte.*
  - i) **Kondens** = fukt, imma.  
*Enligt räddningstjänsten var det kondens från ett kylaggregat som orsakat larmet.*
2.
  - a) **Ingående** = grundlig, djupgående eller hålla på att komma in.  
*Då förstod jag mer ingående vad folkrörelsens ursprung är.*
  - b) **Förankra** = Fästa med ankare eller få stöd.  
*Leta andra sätt att förankra din politik och retorik!*
  - c) **Utsätta** = Fastställa eller för till föremål eller placera  
*Låt oss utsätta ett datum för nästa möte.*
  - d) **Kraft** = styrka eller tillgång eller rättslig giltighet.  
*Även i Danmark diskuterar man förbudet som trädde i kraft för tre år sedan.*
  - e) **Flöde** = flod, ström, lopp.  
*Deras repliker består av ett flöde byråkratiska substantiv.*
  - f) **Massa** = Vikt eller klunga eller substans.  
*Kan ni räkna ut vilken massa denna kropp har?*
  - g) **Teoretisk** = tankemässigt, spekulativ.  
*Men jämförelsen sker ofta mot en teoretisk hyra för en lägenhet som tidigare kanske inte ens var tillgänglig.*
  - h) **Konkret** = Tydlig, verklig.  
*Efter månader av planering och diskussion presenterade de äntligen en konkret strategi för att förbättra företagets effektivitet.*

i) **Existera** = Finnas till.

*Många människor tvivlar på att utomjordiskt liv existerar, men forskare fortsätter att söka efter bevis på andra planeter.*

#### Sidan 67-68

3. B
4. B
5. C
6. D
7. D
8. C
9. D
10. B
11. C
12. C

### Kapitel 10

#### Läsförståelse,

##### Övningsuppgift 1, sidan 73

1. Kommunerna har misslyckats med att analysera och ta höjd för den kraftiga tillväxten. Ett annat problem är att den snabba utbyggnaden har lett till att de äldre fastigheterna och verksamheterna eftersatts. Det finns en stor underhållsskuld.
2. Jan drogs oväntat in i politiken vilket var en omvälvande uppgift då han aldrig haft planer på att ge sig in i politiken. Han har lärt sig mycket och tvingats reflektera av hur städer växer på ett annat sätt än vad han gjorde tidigare.
3. Länsstyrelser och domstolar driver PBL:s anpassningskrav mycket hårdare än tidigare. Det finns ingen systematisk utveckling av ytterområdes-samhällen.
4.
  - a) Att politiken inte är anpassad efter dagsläget. Politiker möter inte den nya kravbild, både på kommun- och riksnivå.
  - b) En lösning kan vara politiken behöver reformeras.

##### Övningsuppgift 2, sidan 74

1. B
2. A



Fastighets  Akademin

Fastighetsakademin Sverige AB, 031-734 11 60  
J A Wettergrens gata 14, 421 30 Västra Frölunda  
[www.fastighetsakademin.se](http://www.fastighetsakademin.se), [info@fastighetsakademin.se](mailto:info@fastighetsakademin.se)